

课后答案网 您最真诚的朋友



[www.hackshp.cn](http://www.hackshp.cn)网团队竭诚为学生服务，免费提供各门课后答案，不用积分，甚至不用注册，旨在为广大学生提供自主学习的平台！

课后答案网：[www.hackshp.cn](http://www.hackshp.cn)

视频教程网：[www.efanjy.com](http://www.efanjy.com)

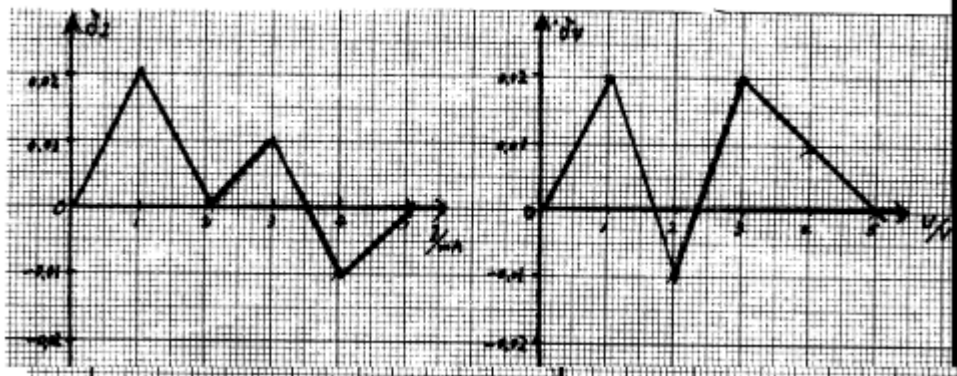
PPT课件网：[www.ppthouse.com](http://www.ppthouse.com)

课后答案网  
[www.hackshp.cn](http://www.hackshp.cn)

			0801007
		实验课时	3
类别	必修(√) 限选( ) 任选( )	类型	演示、验证(√) 综合、设计( )
辅助教师		职称	
授课对象	全校工科本科生、专科生		
教材讲义	王宏波等. 大学物理实验(上). 东北林业大学出版社, 2004		
实验内容(教学过程)			
实验目的	<p>(1) 掌握将微安表改装成较大量程的电流表和电压表的原理和方法。</p> <p>(2) 了解欧姆表的测量原理和刻度方法。</p> <p>(3) 学会绘制校准曲线的方法并对改装表进行校对。</p>		
实验方法原理	<p>设微安表头满量程是 <math>I_g</math>, 内阻为 <math>R_g</math>。</p> <p>(1) 将表头并联一个分流阻值 <math>R_s</math> 改成量程为 <math>I</math> 的电流表, 如图(a)示, 则有 <math>(I-I_g)R_s = I_g R_g</math>, 即 <math>R_s = R_g / (n-1)</math> (<math>n = I/I_g</math>)</p> <p>(2) 将微安表头串联一个分压电阻 <math>R_H</math> 改成量程为 <math>U_d</math> 电压表, 如图(b)示, 则有 <math>I_g(R_g + R_H) = U</math> 即 <math>R_H = U/I_g - R_g</math></p>		
实验装置	微安表、伏特表、安培表、滑线电阻器、稳压电源。		
实验准备	被改装表头、标准电表、导线若干条、电阻箱。		
实验步骤	<p>(1) 改装量程为5 A 电流表</p> <p>① 计算分流阻值 <math>R_s</math> 的理论值, 负载电阻 <math>R_L</math> 取 <math>1000\Omega</math> 左右。</p> <p>② 按图3-7-8连接电路, 各部件摆放原则是便于观察与调节。</p> <p>③ 自查电路(线路的连接、标准表量程的选取、滑线变阻器初值的设定、各阻值的取值)。</p> <p>④ 校准电表: 首先进行满量程校正, 然后进行逐点校正(完成数据表格)</p> <p>(2) 改装电压表</p> <p>(程序与上面相同, 电路图按3-7-10进行)</p>		

数据处理

改装表示值 $I/\text{mA}$	0.00	1.00	2.00	3.00	4.00	5.00
标准表示值 $I_0/\text{mA}$	减小时	1.03	1.99	3.02	3.98	5.00
	增加时	1.01	2.01	3.00	3.99	5.00
	平均	1.02	2.00	3.01	3.99	5.00
差值 $= I_0 - I/\text{mA}$		0.02	0.00	0.01	-0.01	0.00
改装表示值 $U/\text{V}$	0.00	1.00	2.00	3.00	4.00	5.00
标准表示值 $U_0/\text{V}$	减小时	1.02	1.98	3.01	4.02	5.00
	增加时	1.01	1.99	3.02	4.01	5.00
	平均	1.02	1.99	3.02	4.01	5.00
差值 $= U_0 - U/\text{V}$		0.02	-0.01	0.02	0.01	0.00



1. 校正电流表时, 如果发现改装的毫安表读数总是高于标准表的读数, 分流电阻应调大还是调小? 为什么? 答: 应调小。让电路中标准表读数不变, 即保持回路电流不变, 分流电阻值减小后将会分得更多的电流, 从而使流过被改装表表头的电流减小, 改装表的读数也减小。

2. 校正电压表时, 如果发现改装的电压表读数总是低于标准表的读数, 分压电阻应调大还是调小? 为什么? 答: 应调小。让电路中标准表读数不变, 即加在改装电表上电压值不变。调小电阻, 改装表的总电阻降低, 流过改装毫安表的电流增大, 从而读数也增加。

3. 试证明用欧姆表测电阻时, 如果表头指针正好指在表盘标度尺的中心, 则这时的欧姆表指示值为什么正好等于该欧姆表的内阻。 答: 设表头指针满刻度电流为  $I_g$ 、表头指针指

表盘中心时电路中电流为  $I$ , 根据题意  $I = \frac{1}{2} I_g$ , 当表内阻为  $R_g$ 、待测电阻为  $R_x$  时,  

$$I = \frac{V}{R_g + R_x} = \frac{1}{2} I_g$$
 ; 根据欧姆表工作原理, 当待测电阻  $R_x = 0$  时,  $I_g = \frac{V}{R_g}$ 。即  

$$\frac{V}{R_g + R_x} = \frac{1}{2} \frac{V}{R_g}$$
 , 因而可得  $R_x = R_g$ 。所以, 欧姆表显示测  $R_x$  读数即为该欧姆表的内阻。

# 思考题

(1) 应调小。因为表头过载，所以需要再分掉一部分多余的电流。

(2) 应调小。因为串联电路中电压的分配和阻值成正比。

(3) 证明 因为  $I_g = U/(R_g + r)$  而  $I = U/(R_g + r + R_x)$

所以 当  $2I = I_g$  时 即  $2U/(R_g + r + R_x) = U/(R_g + r)$

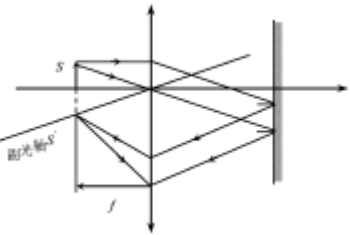
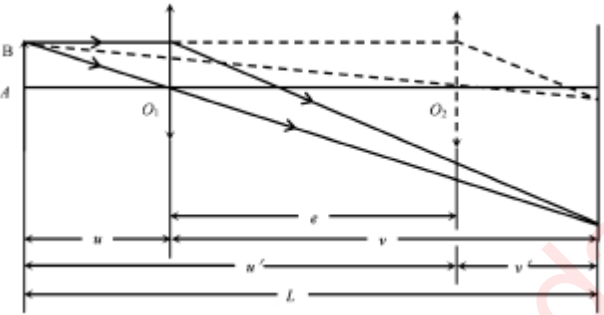
所以  $R_x = R_g + r$  证毕

(4) 由误差 = 量程 × 级别%，设改装表的级别为  $d$ ，则

$5 \times d\% = |\delta_I|_{\max} + 5 \times 0.5\% \therefore d = 0.9$ ，故该装电流表的级别为 1.0 级

课后答案网  
www.hackshp.cn

khdaw.com

0.实验名称	测薄透镜的焦距	实验编号	0801015
		实验课时	3
类别	必修(√) 限选( ) 任选( )	类型	演示、验证( ) 综合、设计(√)
辅助教师		职称	
授课对象	全校工科本科生、专科生		
教材讲义	王宏波等. 大学物理实验(上). 东北林业大学出版社, 2004		
实验内容(教学过程)			备注
实验目的	(1) 掌握测薄透镜焦距的几种方法; (2) 掌握简单光路的分析和调整的方法; (3) 了解透镜成像原理, 掌握透镜成像规律; (4) 进一步学习不确定度的计算方法。		
实验方法原理	<p>(1) 自准法          当光(物)点在凸透镜的焦平面上时, 光点发出的光线经过透镜变成平行光束, 再经过在透镜另一侧的平面镜反射后又汇聚在原焦平面上且与发光点(物点)对称。</p>  <p>(2) 物距像距法          测出物距(<math>u</math>)与相距(<math>v</math>)代入公式: <math>1/u + 1/v = 1/f</math> 可求 <math>f</math></p> <p>(3) 共轭法          保持物与屏的距离(<math>L</math>)不变, 移动透镜, 移动的距离为(<math>e</math>), 其中一次成放大像另一次成缩小像, 放大像 <math>1/u + 1/v = 1/f</math>, 缩小像 <math>1/(u+e) + 1/(v-e) = 1/f</math>, 由于 <math>u+v=L</math>, 所以 <math>f = (L^2 - e^2)/4L</math>。</p>  <p>(4) 凹透镜焦距的测量          利用光路可逆原理, 将凸透镜所成的实像作为凹透镜的物, 即可测</p>		

	出凹透镜成实像的物距和像距，代入公式 $1/u + 1/v = 1/f$ 可求出焦距 $f$ 。																																																																	
实验装置	光具座一台，照明光源，凸透镜，凹透镜，平面镜，物，屏各一个。																																																																	
实验准备	检查实验装置配件是否齐备，特别是照明光源是否工作正常。																																																																	
实验步骤	本实验为简单设计性实验，具体实验步骤由学生自行确定，必要时课建议学生按照实验原理及方法中的顺序作试验。要求学生自行设计的能直接反映出测量结果的数据记录表格。																																																																	
数据处理	<p>(1) 自准法，物距像距法，则凹透镜焦距三个试验将所测数据及计算结果填写在自行设计的表格中。</p> <p>(2) 对共轭法的测量数据及处理实例</p> <p style="text-align: center;">测量数据记录表</p> <table border="1" style="margin-left: auto; margin-right: auto;"> <thead> <tr> <th colspan="3"><math>O_1</math></th> <th colspan="3"><math>O_2</math></th> <th rowspan="2"><math>e = O_2 - O_1</math></th> <th rowspan="2"><math>f = (L^2 - e^2)/4L</math></th> <th rowspan="2"><math>f</math></th> </tr> <tr> <th><math>O_{1左}</math></th> <th><math>O_{1右}</math></th> <th><math>O_1</math></th> <th><math>O_{2左}</math></th> <th><math>O_{2右}</math></th> <th><math>O_2</math></th> </tr> </thead> <tbody> <tr> <td>52.43</td> <td>52.90</td> <td>52.67</td> <td>98.00</td> <td>99.00</td> <td>98.50</td> <td>45.83</td> <td>19.82</td> <td rowspan="7" style="text-align: center; vertical-align: middle;">19.69</td> </tr> <tr> <td>53.50</td> <td>52.70</td> <td>53.10</td> <td>97.98</td> <td>99.20</td> <td>98.59</td> <td>45.49</td> <td>19.92</td> </tr> <tr> <td>51.67</td> <td>52.89</td> <td>52.28</td> <td>99.00</td> <td>99.50</td> <td>99.25</td> <td>46.97</td> <td>19.52</td> </tr> <tr> <td>52.70</td> <td>52.90</td> <td>52.80</td> <td>98.80</td> <td>99.21</td> <td>99.01</td> <td>46.21</td> <td>19.64</td> </tr> <tr> <td>51.30</td> <td>52.80</td> <td>52.05</td> <td>98.60</td> <td>98.90</td> <td>98.75</td> <td>46.70</td> <td>19.59</td> </tr> <tr> <td>52.34</td> <td>52.80</td> <td>52.57</td> <td>98.34</td> <td>99.10</td> <td>98.72</td> <td>46.15</td> <td>19.70</td> </tr> </tbody> </table> <p>① 不确定度的计算过程:</p> $u_{A(e)} = \sqrt{\frac{\sum_{i=1}^6 (e_i - \bar{e})^2}{6(6-1)}} = 0.047 \text{ cm} \quad u_B(\bar{e}) = 0.30 \text{ cm}$ $u_{(e)} = \sqrt{u_A^2(e) + u_B^2(\bar{e})} = 0.31 \text{ cm} \quad u_{(L)} = 0.30 \text{ cm}$ <p>所以 <math>\frac{u(f)}{f} = \sqrt{\left[\frac{L^2 + e^2}{(L^2 - e^2)L}\right]^2 u^2(\bar{L}) + \left[\frac{2e}{L^2 - e^2}\right]^2 u^2(\bar{e})} = 0.368 \times 10^{-2}</math></p> $u(f) = 0.368 \times 10^{-2} \times 19.683 \text{ cm} = 0.072 \text{ cm} \quad U = 2u(f) = 0.145 \text{ cm} = 0.1 \text{ cm}$ <p>② 最后表达式: <math>f = (19.7 \pm 0.1) \text{ cm}</math></p>	$O_1$			$O_2$			$e = O_2 - O_1$	$f = (L^2 - e^2)/4L$	$f$	$O_{1左}$	$O_{1右}$	$O_1$	$O_{2左}$	$O_{2右}$	$O_2$	52.43	52.90	52.67	98.00	99.00	98.50	45.83	19.82	19.69	53.50	52.70	53.10	97.98	99.20	98.59	45.49	19.92	51.67	52.89	52.28	99.00	99.50	99.25	46.97	19.52	52.70	52.90	52.80	98.80	99.21	99.01	46.21	19.64	51.30	52.80	52.05	98.60	98.90	98.75	46.70	19.59	52.34	52.80	52.57	98.34	99.10	98.72	46.15	19.70	
$O_1$			$O_2$			$e = O_2 - O_1$	$f = (L^2 - e^2)/4L$				$f$																																																							
$O_{1左}$	$O_{1右}$	$O_1$	$O_{2左}$	$O_{2右}$	$O_2$																																																													
52.43	52.90	52.67	98.00	99.00	98.50	45.83	19.82	19.69																																																										
53.50	52.70	53.10	97.98	99.20	98.59	45.49	19.92																																																											
51.67	52.89	52.28	99.00	99.50	99.25	46.97	19.52																																																											
52.70	52.90	52.80	98.80	99.21	99.01	46.21	19.64																																																											
51.30	52.80	52.05	98.60	98.90	98.75	46.70	19.59																																																											
52.34	52.80	52.57	98.34	99.10	98.72	46.15	19.70																																																											

1. 你认为三种测量凸透镜焦距的方法，哪种最好?为什么?

答: 共轭法最好，因为这个方法把焦距的测量归结为对可以精确确定的量  $L$  和  $e$  的测量，避免了在测量  $u$  和  $v$  时，由于估计透镜光心位置不准确所带来的误差。

2. 由  $f = \frac{L^2 - e^2}{4L}$  推导出共轭法测  $f$  的标准相对合成不确定度传递公式。根据实际结果，试说明  $u_B(L)$ 、 $u_B(e)$ 、 $u_A(e)$  哪个量对最后结果影响最大?为什么?由此你可否得到一些对实验具

有指导性意义的结论? 答:  $u_A(L)$ 对最后结果影响最大, 因为  $L$  为单次测量量。对  $O_1$ 、 $O_2$  的测量时, 要采用左右逼近法读数。

3. 测量凹透镜焦距  $f$  和实验室给出的  $f_0$ , 比较后计算出的  $E$  值(相对误差)一般比较大, 试分析  $E$  大的原因?

答:  $E$  较大的原因可能是因为放入凹透镜后所成像的清晰度很难确定, 即像的聚焦情况不好, 从而导致很难测出清晰成像的位置。

4. 在测量凸透镜的焦距时, 可以利用测得的多组  $u$ 、 $v$  值, 然后以  $u+v$  作纵轴, 以  $u \cdot v$  作横轴, 画出实验曲线。根据式(3-15-1)事先推断一下实验曲线将属于什么类型, 怎样根据这条曲线求出透镜的焦距  $f$ ?

答: 曲线是直线, 可根据直线的斜率求出  $f$ ,  $f = 1/k$ , 因为  $1/f = 1/u + 1/v$ , 即  $f = \frac{uv}{u+v}$ , 故可有  $f = 1/k$ 。

5. 测量凸透镜的焦距时, 可以测得多组  $u$ 、 $v$  值, 以  $v/u$ (即像的放大率)作纵轴, 以  $v$  作横轴, 画出实验曲线。试问这条实验曲线具有什么形状? 怎样由这条曲线求出透镜的焦距  $f$ ?

答: 曲线是直线, 在横轴上的截距就是  $f$ 。

课后答案网  
www.hackshp.cn

khdaw.com

实验名称	超声波声速的测量		实验编号	0801011
			实验课时	3
类别	必修 (√) 限选 ( ) 任选 ( )	类型	演示、验证 ( ) 综合、设计 (√)	
辅助教师			职称	
授课对象	全校工科本科生、专科生			
教材讲义	王宏波等. 大学物理实验(上). 东北林业大学出版社, 2004			
实验内容 (教学过程)				备注
实验目的	<p>(1) 进一步熟悉示波器的基本结构和原理。</p> <p>(2) 了解压电换能器的功能, 加深对驻波及振动合成等理论知识的理解。</p> <p>(3) 学习几种测定声波传播速度的原理和方法。</p> <p>(4) 通过时差法对声波传播速度的测量, 了解声纳技术的原理及其重要的实用意义。</p>			
实验方法原理	<p>声波是一种弹性媒质中传播的纵波, 波长、强度、传播速度等是声波的重要参数, 超声波是频率大于 20 kHz 的机械波, 本实验利用声速与振动频率 <math>f</math> 和波长 <math>\lambda</math> 之间的关系 <math>v = \lambda f</math> 来测量超声波在空气中的传播速度。</p> <p>SV5 型声速测量组合实验仪 (含专用信号源), 可以做时差法测定超声波传播速度的实验; 配以示波器可完成利用共振干涉法, 双踪比较法和相应比较法测量声速的任务。本声速测量仪是利用压电体的逆压电效应而产生超声波, 利用正压电效应接收超声波, 测量声速的四种实验方法如下: (由于声波频率可通过声源的振动频率得出, 所以测量声波波长是本实验主要任务。)</p> <p>(1) 李萨如图形相位判别法 频率相同的李萨如图形随着 <math>\Delta\phi</math> 的不同, 其图形的形状也不同, 当形状为倾斜方向相同的直线两次出现时, <math>\Delta\phi</math> 变化 <math>2\pi</math>, 对应接受器变化一个波长。</p> <p>(2) 共振法 由发射器发出的平面波经接受器发射和反射器二次反射后, 在接受器与发射器之间形成两列传播方向相同的叠加波, 观察示波器上的图形, 两次加强或减弱的位置差即为波形 <math>\lambda</math>。</p> <p>(3) 双踪相位比较法 直接比较发信号和接收信号, 同时沿传播方向移动接受器位置, 寻找两个波形相同的状态可测出波长。</p> <p>(4) 时差法 测出脉冲声速传播距离 <math>X</math> 和所经历时间 <math>t</math>, 便可求得声速。</p>			



实验装置	YB4320F 示波器 1 台,SV5 型声速测量组合实验仪(含专用信号源)1 台。																																																																																							
实验准备	检查全部实验装置工作是否正常,特别是 3 根同轴电缆。																																																																																							
实验步骤	<p>(1) 李萨如图形相位比较法 转动声速测量组合实验仪的距离调节鼓轮,观察波形当出现两次倾斜方向相同的倾斜直线时,记录这两次换能器的位置,两次位置之差为波长。</p> <p>(2) 共振法 移动声速测量仪手轮会发现信号振幅发生变化,信号变化相邻两次极大值或极小值所对应的接受器移动的距离即是 <math>\lambda/2</math>,移动手轮,观察波形变化,在不同位置测 6 次,每次测 3 个波长的间隔。</p> <p>(3) 比较法 使双通道两路信号双踪显示幅度一样,移动手法会发现其中一路在移动,当移动信号两次与固定信号重合时所对应的接收器移动的距离是 <math>\lambda</math>,移动手轮,观察波形变化,多记录几次两路信号重合时的位置,利用逐差法求波长。</p> <p>(4) 时差法 转动手轮使两换能器的距离加大,每隔 10mm 左右记录一次数据 <math>x_i</math> 和 <math>t_i</math>,根据公式获得一系列 <math>v_i</math> 后,可以利用逐差法求得声速 <math>v</math> 的平均值 <math>\bar{v}</math>。</p>																																																																																							
数据处理	<p>(1) 李萨如图形相位比较法 温度 = 20.8°C 信号发生器显示频率 = 37.003 kHz</p> <table border="1" data-bbox="268 1120 1273 1377"> <tr><td>接受器位置序号</td><td>0</td><td>1</td><td>2</td><td>3</td><td>4</td><td>5</td></tr> <tr><td>接受器位置坐标 /mm</td><td>55.40</td><td>64.53</td><td>73.94</td><td>83.40</td><td>92.65</td><td>101.90</td></tr> <tr><td>接受器位置序号</td><td>6</td><td>7</td><td>8</td><td>9</td><td>10</td><td>11</td></tr> <tr><td>接受器位置坐标 /mm</td><td>111.30</td><td>120.68</td><td>129.95</td><td>139.25</td><td>148.60</td><td>158.06</td></tr> <tr><td><math>x_j - x_0 = \Delta x</math></td><td>55.90</td><td>56.15</td><td>56.01</td><td>55.85</td><td>55.95</td><td>56.16</td></tr> <tr><td><math>\lambda_j = \Delta x / 6</math></td><td>9.32</td><td>9.36</td><td>9.34</td><td>9.31</td><td>9.33</td><td>9.36</td></tr> </table> $\bar{\lambda} = \frac{1}{6} \sum_{j=0}^5 \lambda_j = 9.34 \times 10^{-3} \text{ m}, \bar{v} = f\bar{\lambda} = 3.4561 \times 10^2 \text{ m/s}$ <p>(2) 共振法 温度 = 20.8°C 信号发生器显示频率 = 37.012 kHz</p> <table border="1" data-bbox="268 1612 1327 1960"> <thead> <tr> <th>次数</th> <th>接受器记录</th> <th>被测数</th> <th>被测 <math>\lambda</math> 数 n</th> <th><math>x = a_1 - a_2</math> /mm</th> <th><math>\lambda = x/n</math> /mm</th> <th><math>\lambda</math></th> </tr> </thead> <tbody> <tr><td>1</td><td>48.20</td><td>76.28</td><td>3</td><td>28.08</td><td>9.36</td><td rowspan="6">9.36 × 10<sup>-3</sup></td></tr> <tr><td>2</td><td>76.28</td><td>104.40</td><td>3</td><td>28.12</td><td>9.37</td></tr> <tr><td>3</td><td>104.40</td><td>132.41</td><td>3</td><td>28.01</td><td>9.34</td></tr> <tr><td>4</td><td>132.41</td><td>160.59</td><td>3</td><td>28.18</td><td>9.39</td></tr> <tr><td>5</td><td>160.59</td><td>188.69</td><td>3</td><td>28.10</td><td>9.37</td></tr> <tr><td>6</td><td>188.69</td><td>216.72</td><td>3</td><td>28.03</td><td>9.34</td></tr> </tbody> </table> <p>其中 <math>\bar{\lambda} = \frac{1}{6} \sum_{i=1}^6 \lambda_i = 9.36 \times 10^{-3} \text{ m}; \bar{v} = f\bar{\lambda} = 3.4649 \times 10^2 \text{ m/s}</math></p>		接受器位置序号	0	1	2	3	4	5	接受器位置坐标 /mm	55.40	64.53	73.94	83.40	92.65	101.90	接受器位置序号	6	7	8	9	10	11	接受器位置坐标 /mm	111.30	120.68	129.95	139.25	148.60	158.06	$x_j - x_0 = \Delta x$	55.90	56.15	56.01	55.85	55.95	56.16	$\lambda_j = \Delta x / 6$	9.32	9.36	9.34	9.31	9.33	9.36	次数	接受器记录	被测数	被测 $\lambda$ 数 n	$x = a_1 - a_2$ /mm	$\lambda = x/n$ /mm	$\lambda$	1	48.20	76.28	3	28.08	9.36	9.36 × 10 <sup>-3</sup>	2	76.28	104.40	3	28.12	9.37	3	104.40	132.41	3	28.01	9.34	4	132.41	160.59	3	28.18	9.39	5	160.59	188.69	3	28.10	9.37	6	188.69	216.72	3	28.03	9.34
接受器位置序号	0	1	2	3	4	5																																																																																		
接受器位置坐标 /mm	55.40	64.53	73.94	83.40	92.65	101.90																																																																																		
接受器位置序号	6	7	8	9	10	11																																																																																		
接受器位置坐标 /mm	111.30	120.68	129.95	139.25	148.60	158.06																																																																																		
$x_j - x_0 = \Delta x$	55.90	56.15	56.01	55.85	55.95	56.16																																																																																		
$\lambda_j = \Delta x / 6$	9.32	9.36	9.34	9.31	9.33	9.36																																																																																		
次数	接受器记录	被测数	被测 $\lambda$ 数 n	$x = a_1 - a_2$ /mm	$\lambda = x/n$ /mm	$\lambda$																																																																																		
1	48.20	76.28	3	28.08	9.36	9.36 × 10 <sup>-3</sup>																																																																																		
2	76.28	104.40	3	28.12	9.37																																																																																			
3	104.40	132.41	3	28.01	9.34																																																																																			
4	132.41	160.59	3	28.18	9.39																																																																																			
5	160.59	188.69	3	28.10	9.37																																																																																			
6	188.69	216.72	3	28.03	9.34																																																																																			

(3) 比较法

温度=20.8℃ 信号发生器显示频率=37.015 kHz

接受器位置序号	0	1	2	3	4	5
接受器位置坐标	57.65	67.04	76.38	86.75	95.12	104.59
接受器位置序号	6	7	8	9	10	11
接受器位置坐标	114.06	123.50	132.77	142.26	151.58	161.09
$x_j = x_{i+6} - x_i$ /mm	56.41	56.46	56.39	55.51	56.46	56.50
$\lambda_j = \frac{1}{6} \sum_{j=0}^5 \lambda_j$	9.40	9.41	9.40	9.25	9.41	9.42

(4) 时差法

温度=20.8℃ 信号发生器显示频率=37.032 kHz

接收器位置序号 $i$	0	1	2	3	4	5
接收器位置坐标 $x_i$ /mm	56.85	66.80	76.80	86.80	96.80	106.80
脉冲传播时间 $t_i$ /us	347	377	407	434	465	491
接收器位置序号 $i$	6	7	8	9	10	11
接收器位置坐标 $x_i$ /mm	116.80	126.80	136.80	146.80	156.80	166.80
脉冲传播时间 $t_i$ /us	522	551	579	606	635	663
$v_j = \frac{x_{i+6} - x_i}{t_{i+6} - t_i}$ /ms <sup>-1</sup>	342.57	344.83	348.84	348.84	352.94	348.84

数据处理

$$\bar{v} = \frac{1}{6} \sum_{j=0}^5 v_j = 3.4781 \times 10^2 \text{ mm/s}$$

(5) 环境温度为  $T(^{\circ}\text{C})$  时的声速

$$v = v_0 \sqrt{1 + \frac{T}{T_0}} = 331.5 \times \sqrt{1 + \frac{20.8}{273.15}} = 343.89 \text{ m/s}$$

(6) 不确定度的计算及实验结果

$$\bar{\lambda} = \frac{1}{6} \sum_{j=0}^5 \lambda_j = 9.38 \times 10^{-3} \text{ m}; \quad \bar{v} = f\bar{\lambda} = 3.4720 \times 10^2 \text{ m/s}$$

$$u_A(\lambda) = \sqrt{\frac{\sum(\bar{\lambda} - \lambda_j)^2}{n(n-1)}} = 6.83 \times 10^{-6} \text{ m} \quad u_B(\lambda) = 1 \times 10^{-5} \text{ m}$$

$$u(\lambda) = \sqrt{u_A^2(\lambda) + u_B^2(\lambda)} = 1.21 \times 10^{-5} \text{ m}$$

$$u(f) = u_B(f) = 5 \times 10^{-4} \times 37.003 \times 10^3 + 1 = 19.502 \text{ Hz}$$

$$u_c(v) = f \cdot \lambda \cdot \sqrt{\left(\frac{u(\lambda)}{\lambda}\right)^2 + \left(\frac{u(f)}{f}\right)^2}$$

$$= 37.003 \times 10^3 \times 9.34 \times 10^{-3} \times 1.3986 \times 10^{-3}$$

$$= 0.4834 \text{ m/s}$$

取  $k=2$ , 则  $U=2u_c(v) = 0.9668 \text{ m/s}$

$$v = (\bar{v} + v) = (345.61 \pm 0.97) \text{ m/s}$$

1. 示波器在使用过程中荧光屏上只有一条水平亮线而没有被测信号是什么原因造成的?答:在示波器的使用过程中,上述现象经常出现,造成这一现象的原因很多,大致可归纳为:①示波器接地(GND)(测量时接地按键 GND 应该弹起);②衰减开关 VOLTS/DIV 选择过大(测量时可先选择小些);③信号发生器输出过小或没有输出;④信号发生器输出直流信号;⑤在信号的传输中,导线或接头接触不良,也可造成该现象;⑥示波器的相关功能键都应选择在正确工作状态下。总之,影响的因素很多,要求使用者在使用前一定认真阅读教材。

2. 在测量声速时,  $Y_1$ (CH1)的输入信号,由于示波器的 Y 轴放大器、压电转换器、联接线路的相移等原因并不与声波的位相相同,这对于观察测量声波波长有无影响?为什么?

答:没有影响。因为波长是波在传播过程中位相差为  $2\pi$  的两点间的距离,与该处位相无关,所以无影响。

3. 试比较几种测声速方法的优缺点。

答:实验讲义上共列出了三种测量方法:①李萨如图相位比较法,②共振法,③波形相位比较法。一般说来,李萨如图相位比较法测量的比较准,同时便于对知识的温新和巩固,对于示波器的使用以及学生动手能力和思考问题的培养,不失是一种较好的途径,但操作比较繁;对于共振法,判断相对要困难一些,所以测量误差一般要大一些,但可以直观地了解共振现象;而波形相位比较法比的现象较直观,可操作性强,只是相位判别不如李萨如图相位比较法准确,但只要认真操作,误差也不会太大。

实验名称	电热法测热功当量	实验编号	0801004
		实验课时	3
类别	必修(√) 限选( ) 任选( )	类型	演示、验证( )综合、设计(√)
辅助教师		职称	
授课对象	全校工科本科生、专科生		
教材讲义	王宏波等. 大学物理实验(上). 东北林业大学出版社, 2004		
实验内容(教学过程)			
实验目的	(1) 学习用电热法测热功当量, 即Q与W的比值。 (2) 了解热学实验的特殊条件和基本方法。 (3) 学会用修正中温的方法作散热修正。		
实验方法原理	将一电阻放入一定量的水中, 电阻通电 $t$ 秒, 则电功为 $A = VI t$ , 由电流的热效应, 这些功将转化为参与热交换的工作物质的温升, 则 $Q = (c_0 m_0 + c_1 m_1 + c_2 m_2 + \dots + 0.46 \delta V) \cdot (T_f - T_0)$ , 如没有热量散失到环境中去, 必有热功当量 $J$ 为 $J = \frac{A}{Q}$ 终温修正就是将散失到环境中的热量的温度的形式补偿回来, 依据牛顿冷却公式。即 $\frac{dT}{dt} = k(T - \theta)$ , 而 $k = \frac{1}{t} \ln \frac{T_f - \theta}{T_0 - \theta}$ , 采用逆推的方法可以求到温度亏损 $\delta T = dT_1 + dT_2 + \dots + dT_{15}$ (计算机中有现成计算程序引资利用)		
实验装置	量热器 1 只、晶体管稳压电源、伏特表、宽带电阻电压表各一台, 单刀双掷开关一只、导线 4 根、公用天平及报时器。		
实验准备	检查实验仪器完好情况, 备好实验用水。		
实验步骤	(1) 先将温度传感器探头悬在空气中, 直接读室温 $\theta$ 下的电阻值。 (2) 用天平分别称量量热器内筒及内筒盛水后的质量。 (3) 按图接好电路。 (4) 再接通电源, 立即开始搅拌, 当温度高于室温后, 听到报时器响声, 即记录起始电阻值 $R_0$ , 然后每隔 1 分钟记一次电阻值, 共记 16 次, 然后断开电源。 (5) 切断电源后, 待温度不再升高后, 开始记录降温的初始阻值 $R'_0$ , 之后每隔一分钟记录一次电阻值, 共记 16 次。		

数据处理	$\delta V=1.30$	水	吕内筒	搅拌器	铜	电阻丝	降温初阻值	1.1261K $\Omega$	电压	4.90V
	比热容	1.000	0.210	2.10	0.093	0.105	降温终阻值	1.1228K $\Omega$	电流	1.00A
	质量/g	142.45	23.85	3.00	23.00	0.300	降温时间	15min	室温阻值	1.0905K $\Omega$
	升温阻阻/K $\Omega$	R <sub>0</sub>	R <sub>1</sub>	R <sub>2</sub>	R <sub>3</sub>	R <sub>4</sub>	R <sub>5</sub>	R <sub>6</sub>	R <sub>7</sub>	R <sub>8</sub>
		1.1031	1.1049	1.1064	1.1080	1.1095	1.1111	1.1126	1.1142	1.1157
		R <sub>9</sub>	R <sub>10</sub>	R <sub>11</sub>	R <sub>12</sub>	R <sub>13</sub>	R <sub>14</sub>	R <sub>15</sub>		
		1.1172	1.1187	1.1202	1.1217	1.1232	1.1247	1.1262		
	降温阻值/K $\Omega$	R <sub>0'</sub>	R <sub>1'</sub>	R <sub>2'</sub>	R <sub>3'</sub>	R <sub>4'</sub>	R <sub>5'</sub>	R <sub>6'</sub>	R <sub>7'</sub>	R <sub>8'</sub>
		1.1261	1.1258	1.1256	1.1253	1.1251	1.1249	1.1247	1.1245	1.1243
		R <sub>9'</sub>	R <sub>10'</sub>	R <sub>11'</sub>	R <sub>12'</sub>	R <sub>13'</sub>	R <sub>14'</sub>	R <sub>15'</sub>		
		1.1240	1.1238	1.1236	1.1234	1.1232	1.1230	1.1228		
	计算值	K	0.0061/min		$\delta T$	-1.2039 $^{\circ}C$				
			W/J	Q/cal	J	$\Delta J$	E			
		修正前	4410.00	895.835	4.9228	0.7358	17.5734%			
		修正后	4410.00	1077.45	4.0930	0.0940	2.2450%			

1. 该实验所必须的实验条件与采用的实验基本方法各是什么?系统误差的来源可能有哪些?

答: 实验条件是系统与外界没有较大的热交换, 并且系统(即水)应尽可能处于准静态变化过程。实验方法是电热法。系统误差的最主要来源是系统的热量散失, 而终温修正往往不能完全弥补热量散失对测量的影响。其他来源可能有①水的温度不均匀, 用局部温度代替整体温度。②水的温度与环境温度差异较大, 从而给终温的修正带来误差。③温度, 质量及电功率等物理量的测量误差。

2. 定性说明实验中发生以下情况时, 实验结果是偏大还是偏小?

(1) 搅拌时水被溅出; 答: 实验结果将会偏小。水被溅出, 即水的质量减少, 在计算热功当量时, 仍以称横水的质量计算, 即认为水的质量不变, 但是由于水的质量减少, 对水加热时, 以同样的电功加热, 系统上升的温度要比水没有上升时的温度要高, 即水没溅出在同样电功加热时, 应上升  $T$  度, 而水溅出后上升的温度应是  $T+\Delta T$  度。用  $J=A/Q$ , 有  $Q=(cm_iT)$ ,  $J=A/[ (T+\Delta T) /mc]$ , 分母变大  $J$  变小。

(2) 搅拌不均匀; 答:  $J$  偏大、偏小由温度计插入的位置与电阻丝之间的距离而定。离电阻丝较远时, 系统温度示数比, 均匀系统温度低, 设  $T$  为均匀系统温度, 温度计示值应为  $T-\Delta T$ , 用  $J=A/\theta$  计算, 分母变小, 则  $J$  变大; 离电阻丝较近时, 温度计示值应为  $T+\Delta T$ , 分母变大, 因而  $J$  变小。

(3) 室温测得偏高或偏低。答: 设  $\theta_0$  为室温, 若测得值偏高  $\Delta\theta$  时, 测量得到的温度值为  $\theta_0+\Delta\theta$  偏低  $\Delta\theta$  时, 测量温度值为  $\theta_0-\Delta\theta$ , 在计算温度亏损时,  $dT_i=k(T_i-\theta)$ ,  $k$  是与室温无关的量( $k$  与室温有关), 只与降温初温和降温终温以及降温时间有关, 测得室温偏高时,  $dT_i=k[T_i-$

$(\theta_0 + \Delta\theta)$ ], 每秒内的温度亏损  $dT_i$  小于实际值,  $t$  秒末的温度亏损  $\delta T_i = \sum k[T_i - (\theta_0 + \Delta\theta)]$ 。此值小于实际值, 由于散热造成的温度亏损  $\delta T_i = T_f + T_f''$ , 修正后的温度  $T_f''$  为:  $T_f'' = T_f - \delta T_i$ ,  $\delta T_i$  为负值, 当测量值低于实际室温时,  $\delta T_i$  的绝对值变小:  $T_f'' = T_f + |\delta T_i|$ , 即  $T_f''$  变大,  $\Delta T$  变大 (其中  $\Delta T = T_f'' - T_{f初}$ ,  $T_{f初}$ : 升温初始值),

$$J = \frac{A}{Q} = \frac{A}{\sum c_i m_i \Delta T}, \quad J \text{ 变大, 反之 } J \text{ 变小。}$$

课后答案网  
www.hackshp.cn

khdaw.com

实验名称	伏安法测电阻	实验编号	0801006
		实验课时	3
类别	必修(√) 限选( ) 任选( )	类型	演示、验证( ) 综合、设计(√)
辅助教师		职称	
授课对象	全校工科本科生、专科生		
教材讲义	王宏波等. 大学物理实验(上). 东北林业大学出版社, 2004		
实验内容(教学过程)			
实验目的	(1) 利用伏安法测电阻。 (2) 验证欧姆定律。 (3) 学会间接测量量不确定度的计算；进一步掌握有效数字的概念。		
实验方法原理	根据欧姆定律， $R = \frac{U}{I}$ ，如测得 $U$ 和 $I$ 则可计算出 $R$ 。值得注意的是，本实验待测电阻有两只，一个阻值相对较大，一个较小，因此测量时必须采用安培表内接和外接两个方式，以减小测量误差。		
实验装置	待测电阻两只，0~5mA 电流表 1 只，0—5V 电压表 1 只，0~50mA 电流表 1 只，0~10V 电压表一只，滑线变阻器 1 只，DF1730SB3A 稳压源 1 台。		
实验准备	检查待测电阻、所用电表和其他仪器的完好情况。		
实验步骤	本实验为简单设计性实验，实验线路、数据记录表格和具体实验步骤应由学生自行设计。必要时，可提示学生参照第 2 章中的第 2.4 一节的有关内容。分压电路是必须要使用的，并作具体提示。 (1) 根据相应的电路图对电阻进行测量，记录 $U$ 值和 $I$ 值。对每一个电阻测量 3 次。 (2) 计算各次测量结果。如多次测量值相差不大，可取其平均值作为测量结果。 (3) 如果同一电阻多次测量结果相差很大，应分析原因并重新测量。		

数据  
处理

测量次数	1	2	3
$U_1$ /V	5.4	6.9	8.5
$I_1$ /mA	2.00	2.60	3.20
$R_1$ / $\Omega$	2700	2654	2656
测量次数	1	2	3
$U_2$ /V	2.08	2.22	2.50
$I_2$ /mA	38.0	42.0	47.0
$R_2$ / $\Omega$	54.7	52.9	53.2


(1) 由  $\Delta U = U_{\max} \times 1.5\%$ ，得到  $\Delta U_1 = 0.15V$ ， $\Delta U_2 = 0.075V$ ；

(2) 由  $\Delta I = I_{\max} \times 1.5\%$ ，得到  $\Delta I_1 = 0.075mA$ ， $\Delta I_2 = 0.75mA$ ；

(3) 再由  $u_R = \bar{R} \sqrt{\left(\frac{\Delta U}{\sqrt{3}U}\right)^2 + \left(\frac{\Delta I}{\sqrt{3}I}\right)^2}$ ，求得  $u_{R1} = 9 \times 10^1 \Omega$ ， $u_{R2} = 1 \Omega$ ；

(4) 结果表示  $R_1 = (2.92 \pm 0.09) \times 10^3 \Omega$ ， $R_2 = (44 \pm 1) \Omega$



实验名称	光的干涉—牛顿环	实验编号	0801016	
		实验课时	3	
类别	必修(√) 限选( ) 任选( )	类型	演示、验证(√) 综合、设计( )	
辅助教师		职称		
授课对象	全校工科本科生、专科生			
教材讲义	王宏波等. 大学物理实验(上). 东北林业大学出版社, 2004			
实验内容(教学过程)				备注
实验目的	(1) 观察等厚干涉现象及其特点。 (2) 学会用干涉法测量透镜的曲率半径与微小厚度。			
实验方法原理	<p>利用透明薄膜(空气层)上下表面对入射光的依次反射, 入射光的振幅将分成振幅不同且有一定光程差的两部分, 这是一种获得相干光的重要途径。由于两束反射光在相遇时的光程差取决于产生反射光的薄膜厚度, 同一条干涉条纹所对应的薄膜厚度相同, 这就是等厚干涉。将一块曲率半径 <math>R</math> 较大的平凸透镜的凸面置于光学平板玻璃上, 在透镜的凸面和平板玻璃的上表面间就形成一层空气薄膜, 其厚度从中心接触点到边缘逐渐增加。当平行的单色光垂直入射时, 入射光将在此薄膜上下两表面依次反射, 产生具有一定光程差的两束相干光。因此形成以接触点为中心的一系列明暗交替的同心圆环——牛顿环。透镜的曲率半径为:</p> $R = \frac{D_m^2 - D_n^2}{4(m-n)\lambda} = \frac{\bar{y}}{4(m-n)\lambda}$			
实验装置	读数显微镜、牛顿环装置、计算机。			
实验准备	计算机软件、玻璃片、钠光灯管。			
实验步骤	<p>(1) 转动读数显微镜的测微鼓轮, 熟悉其读数方法; 调整目镜, 使十字叉丝清晰, 并使其水平线与主尺平行(判断的方法是: 转动读数显微镜的测微鼓轮, 观察目镜中的十字叉丝竖线与牛顿环相切的切点连线是否始终与移动方向平行)。</p> <p>(2) 为了避免测微鼓轮的网程(空转)误差, 在整个测量过程中, 鼓轮只能向一个方向旋转。应尽量使叉丝的竖线对准暗干涉条纹中央时才读数。</p> <p>(3) 应尽量使叉丝的竖线对准暗干涉条纹中央时才读数。</p> <p>(4) 测量时, 隔一个暗环记录一次数据。</p> <p>(5) 由于计算 <math>R</math> 时只需要知道环数差 <math>m-n</math>, 因此以哪一个环作为第一环可以任选, 但对任一暗环其直径必须是对应的两切点坐标之差。</p>			

数据处理

环的级数	m	24	22	20	18	16
环的位置 / mm	右	21.391	21.552	21.708	21.862	22.041
	左	28.449	28.320	28.163	27.970	27.811
环的直径 / mm	Dm	7.058	6.768	6.455	6.108	5.770
环的级数	n	14	12	10	8	6
环的位置 / mm	右	22.237	22.435	22.662	22.881	23.162
	左	27.632	27.451	27.254	26.965	26.723
环的直径 / mm	Dn	5.395	5.016	4.592	4.084	3.561
$y_i = D_m^2 - D_n^2 / \text{mm}^2$		20.709	20.646	20.581	20.629	20.612
$\bar{y} = \overline{D_m^2 - D_n^2} / \text{mm}^2$	20.635	$\bar{R} = \frac{D_m^2 - D_n^2}{4(m-n)k} / \text{mm}$		875.4		
$u_A(y) = \sqrt{\frac{\sum (y - y_i)^2}{k(k-1)}}$	0.12	$\frac{u_A(y)}{y} =$		0.6%		

$$\frac{u_c(R)}{R} = \sqrt{\left(\frac{u(y)}{y}\right)^2 + \left(\frac{u(m)}{m-n}\right)^2 + \left(\frac{u(n)}{m-n}\right)^2} = \sqrt{\left(\frac{0.12}{20.635}\right)^2 + 8.9 \times 10^{-8}} = 0.6\%$$

$$u_c(R) = R \times \frac{u_c(R)}{R} = 5.25 \text{mm}; \quad U = 2 \times u_c(R) = 11 \text{mm}$$

$$R = (\bar{R} \pm U) = (875 \pm 11) \text{mm}$$

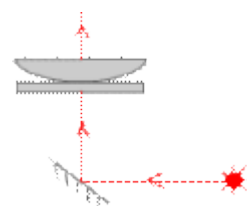
1. 透射光牛顿环是如何形成的?如何观察?画出光路示意图。答:光由牛顿环装置下方射入,在空气层上下两表面对入射光的依次反射,形成干涉条纹,由上向下观察。

2. 在牛顿环实验中,假如平玻璃板上有微小凸起,则凸起处空气薄膜厚度减小,导致等厚干涉条纹发生畸变。试问这时的牛顿环(暗)将局部内凹还是局部外凸?为什么?

答:将局部外凸,因为同一条纹对应的薄膜厚度相同。

3. 用白光照射时能否看到牛顿环和劈尖干涉条纹?此时的条纹有何特征?

答:用白光照射能看到干涉条纹,特征是:彩色的条纹,但条纹数有限。



课后答案网  
www.hackshp.cn

khdaw.com

实验名称	光电效应		实验编号	0801013
			实验课时	3
类别	必修 (√) 限选 ( ) 任选 ( )	类型	演示、验证 ( ) 综合、设计 (√)	
辅助教师			职称	
授课对象	全校工科本科生、专科生			
教材讲义	王宏波等. 大学物理实验(上). 东北林业大学出版社, 2004			
实验内容 (教学过程)				备注
实验目的	<p>(1) 观察光电效现象,测定光电管的伏安特性曲线和光照度与光电流关系曲线;测定截止电压,并通过现象了解其物理意义。</p> <p>(2) 练习电路的连接方法及仪器的使用;学习用图像总结物理律。</p>			
实验方法原理	<p>(1) 光子打到阴极上,若电子获得的能量大于逸出功时则会逸出,在电场力的作用下向阳极运动而形成正向电流。在没达到饱和前,光电流与电压成线性关系,接近饱和时呈非线性关系,饱和后电流不再增加。</p> <p>(2) 电光源发光后,其照度随距光源的距离的平方成(<math>r^2</math>)反比即光电管得到的光子数与 <math>r^2</math> 成反比,因此打出的电子数也与 <math>r^2</math> 成反比,形成的饱和光电流也与 <math>r^2</math> 成反比,即 <math>I \propto r^2</math>。</p> <p>(3) 若给光电管接反向电压 <math>u_{反}</math>, 在 <math>eU_{反} &lt; mv_{max}/2 = eU_s</math> 时(<math>v_{max}</math> 为具有最大速度的电子的速度) 仍会有电子移动到阳极而形成光电流, 当继续增大电压 <math>U_{反}</math>, 由于电场力做负功使电子减速, 当使其到达阳极前速度刚好为零时 <math>U_{反} = U_s</math>, 此时所观察到的光电流为零, 由此可测得此光电管在当前光源下的截止电压 <math>U_s</math>。</p>			
实验装置	光具座一台微电流测试仪 1 台, 0~60V, 0~12V / 0~5A 直流稳压电源各一台, 换向开关一个, 真空光电管一只, 导线若干。			
实验准备	<p>(1) 实验前要做好预习, 并写好预习报告, 上课时教师检查;</p> <p>(2) 观察光电管, 明确阳极与阴极; (3) 熟悉双向开关的换向作用。</p>			
实验步骤	<p>(1) 按讲义中的电路原理图连接好实物电路图;</p> <p>(2) 测光电管的伏安特性曲线:</p> <p>① 先使正向电压加至30伏以上, 同时使光电流达最大(不超量程),</p> <p>② 将电压从0开始按要求依次加大做好记录;</p> <p>(3) 测照度与光电流的关系:</p> <p>① 先使光电管距光源20cm处, 适当选择光源亮度使光电流达最大(不超量程);</p> <p>② 逐渐远离光源按要求做好记录;</p>			



实验名称	光栅衍射		实验编号	0801017
			实验课时	3
类别	必修(√) 限选( ) 任选( )	类型	演示、验证(√) 综合、设计( )	
辅助教师			职称	
授课对象	全校工科本科生、专科生			
教材讲义	王宏波等. 大学物理实验(上). 东北林业大学出版社, 2004			
实验内容(教学过程)				备注
实验目的	(1) 了解分光计的原理和构造。 (2) 学会分光计的调节和使用方法。 (3) 观测汞灯在可见光范围内几条光谱线的波长			
实验方法原理	若以单色平行光垂直照射在光栅面上, 按照光栅衍射理论, 衍射光谱中明条纹的位置由下式决定: $(a + b) \sin \psi_k = d \sin \psi_k = \pm k\lambda$ 如果入射光不是单色, 则由上式可以看出, 光的波长不同, 其衍射角也各不相同, 于是复色光将被分解, 而在中央 $k=0$ 、 $\psi=0$ 处, 各色光仍重叠在一起, 形成中央明条纹。在中央明条纹两侧对称地分布着 $k=1, 2, 3, \dots$ 级光谱, 各级光谱线都按波长大小的顺序依次排列成一组彩色谱线, 这样就把复色光分解为单色光。如果已知光栅常数, 用分光计测出 $k$ 级光谱中某一明条纹的衍射角 $\psi$ , 即可算出该明条纹所对应的单色光的波长 $\lambda$ 。			
实验装置	JJY型分光计、汞灯、光栅、分光计演示仪。			
实验准备	汞灯灯管、600 条的全息透射光栅。			

实验步骤	<p>(1) 调整分光计的工作状态，使其满足测量条件。</p> <p>(2) 利用光栅衍射测量汞灯在可见光范围内几条谱线的波长。</p> <p>① 由于衍射光谱在中央明条纹两侧对称地分布，为了提高测量的准确度，测量第k级光谱时，应测出+k级和-k级光谱线的位置，两位置的差值之半即为实验时k取1。</p> <p>② 为了减少分光计刻度盘的偏心误差，测量每条光谱线时，刻度盘上的两个游标都要读数，然后取其平均值(角游标的读数方法与游标卡尺的读数方法基本一致)。</p> <p>③ 为了使十字丝对准光谱线，可以使用望远镜微调螺钉12来对准。</p> <p>④ 测量时，可将望远镜置最右端，从-1级到+1级依次测量，以免漏测数据。</p>
------	--

数据处理	<table border="1" style="width: 100%; border-collapse: collapse;"> <thead> <tr> <th>谱线</th> <th>游标</th> <th>左1级 (k=-1)</th> <th>右1级 (k=+1)</th> <th><math>\varphi</math></th> <th><math>\lambda / \text{nm}</math></th> <th><math>\lambda_0 / \text{nm}</math></th> <th><math>E</math></th> </tr> </thead> <tbody> <tr> <td rowspan="2">黄1(明)</td> <td>左</td> <td>102°45'</td> <td>62°13'</td> <td rowspan="2">20.258°</td> <td rowspan="2">577.1</td> <td rowspan="2">579.0</td> <td rowspan="2">0.33%</td> </tr> <tr> <td>右</td> <td>282°48'</td> <td>242°18'</td> </tr> <tr> <td rowspan="2">黄2(明)</td> <td>左</td> <td>102°40'</td> <td>62°20'</td> <td rowspan="2">20.158°</td> <td rowspan="2">574.4</td> <td rowspan="2">577.9</td> <td rowspan="2">0.45%</td> </tr> <tr> <td>右</td> <td>282°42'</td> <td>242°24'</td> </tr> <tr> <td rowspan="2">绿(明)</td> <td>左</td> <td>101°31'</td> <td>63°29'</td> <td rowspan="2">19.025°</td> <td rowspan="2">543.3</td> <td rowspan="2">546.1</td> <td rowspan="2">0.51%</td> </tr> <tr> <td>右</td> <td>281°34'</td> <td>243°30'</td> </tr> <tr> <td rowspan="2">紫(明)</td> <td>左</td> <td>97°35'</td> <td>67°23'</td> <td rowspan="2">15.092°</td> <td rowspan="2">433.9</td> <td rowspan="2">435.8</td> <td rowspan="2">0.44%</td> </tr> <tr> <td>右</td> <td>277°37'</td> <td>247°28'</td> </tr> </tbody> </table> <p>(1) 与公认值比较</p> <p>计算出各条谱线的相对误差 <math>E = \frac{\lambda_0 - \lambda_x}{\lambda_0}</math> 其中 <math>\lambda_0</math> 为公认值。</p> <p>(2) 计算出紫色谱线波长的不确定度</p> $u(\lambda) = \sqrt{\left[ \frac{\partial((a+b)\sin\varphi)}{\partial\varphi} u(\varphi) \right]^2} = (a+b)  \cos\varphi  u(\varphi)$ $= \frac{1}{600} \times \cos 15.092^\circ \times \frac{\pi}{60 \times 180} = 0.467 \text{nm}; U = 2 \times u(\lambda) = 0.9 \text{nm}$ <p>最后结果为: <math>\lambda = (433.9 \pm 0.9) \text{nm}</math></p>	谱线	游标	左1级 (k=-1)	右1级 (k=+1)	$\varphi$	$\lambda / \text{nm}$	$\lambda_0 / \text{nm}$	$E$	黄1(明)	左	102°45'	62°13'	20.258°	577.1	579.0	0.33%	右	282°48'	242°18'	黄2(明)	左	102°40'	62°20'	20.158°	574.4	577.9	0.45%	右	282°42'	242°24'	绿(明)	左	101°31'	63°29'	19.025°	543.3	546.1	0.51%	右	281°34'	243°30'	紫(明)	左	97°35'	67°23'	15.092°	433.9	435.8	0.44%	右	277°37'	247°28'
谱线	游标	左1级 (k=-1)	右1级 (k=+1)	$\varphi$	$\lambda / \text{nm}$	$\lambda_0 / \text{nm}$	$E$																																														
黄1(明)	左	102°45'	62°13'	20.258°	577.1	579.0	0.33%																																														
	右	282°48'	242°18'																																																		
黄2(明)	左	102°40'	62°20'	20.158°	574.4	577.9	0.45%																																														
	右	282°42'	242°24'																																																		
绿(明)	左	101°31'	63°29'	19.025°	543.3	546.1	0.51%																																														
	右	281°34'	243°30'																																																		
紫(明)	左	97°35'	67°23'	15.092°	433.9	435.8	0.44%																																														
	右	277°37'	247°28'																																																		

1. 当用钠光(波长  $\lambda = 589.0 \text{nm}$ ) 垂直入射到  $1 \text{mm}$  内有 500 条刻痕的平面透射光栅上时，试问最多能看到第几级光谱? 并请说明理由。

答: 由  $(a+b)\sin\phi = k\lambda$  得  $k = \{(a+b)/\lambda\}\sin\phi$

$\because \phi$  最大为  $90^\circ$  所以  $\sin\phi = 1$

又  $\because a+b = 1/500 \text{mm} = 2 \times 10^{-6} \text{m}$ ,  $\lambda = 589.0 \text{nm} = 589.0 \times 10^{-9} \text{m}$

$\therefore k = 2 \times 10^{-6} / 589.0 \times 10^{-9} = 3.4$  最多只能看到三级光谱。

2. 当狭缝太宽、太窄时将会出现什么现象? 为什么? 答: 狭缝太宽, 则分辨本领将下降, 如两条黄色光谱线分不开。狭缝太窄, 透光太少, 光线太弱, 视场太暗不利于测量。

3. 为什么采用左右两个游标读数?左右游标在安装位置上有何要求?

答: 采用左右游标读数是为了消除偏心差, 安装时左右应差  $180^\circ$ 。

khdaw.com

课后答案网  
www.hackshp.cn

khdaw.com



实验名称	激光全息照相		实验编号	0801012
			实验课时	3
类别	必修 (√) 限选 ( ) 任选 ( )	类型	演示、验证 ( ) 综合、设计 (√)	
辅助教师			职称	
授课对象	全校工科本科生、专科生			
教材讲义	王宏波等. 大学物理实验(上). 东北林业大学出版社, 2004			
实验内容 (教学过程)				
实验目的	(1) 了解全息照相的原理及特点。 (2) 掌握漫反射物体的全息照相方法, 制作漫反射的三维全息图。 (3) 掌握反射全息照相方法, 学会制作物体的白光再现反射全息图。 (4) 进一步熟悉光路的调整方法, 学习暗室技术。			
实验方法原理	(1) 概述 全息照相是利用光涉的干涉和衍射原理, 将物光波以干涉条纹的形式记录下来, 然后在一定条件下, 利用衍射再现原物体的立体图像。可见, 全息照相必须分两步进行: ①物体全息图的记录过程; ②立体物像的再现过程。 (2) 全息照相与普通照相的主要区别 ①全息照相能够把物光波的全部信息记录下来, 而普通照相只能记录物光波的强度。 ②全息照片上每一部分都包含了被摄物体上每一点的光波信息, 所以它具有可分割性, 即全息照片的每一部分都能再现出物体的完整的图像。 ③在同一张全息底片上, 可以采用不同的角度多次拍摄不同的物体, 再现时, 在不同的衍射方向上能够互不干扰地观察到每个物体的立体图像。 (3) 全息照相技术的发展 全息照相技术发展到现在已有四代。本实验将用激光作光源完成物体的第二代全息图—漫反射全息图和第三代全息图—反射全息图的拍摄和再现。			
实验装置	全息照相实验台 1 套 (含 He-Ne 激光器、曝光定时器、光电开关、90%分束镜、底片夹、载物台各 1 个, 反射镜、扩束镜、待摄物体各 2 个)。			
实验准备	确保全息实验台配件齐全, 准备全息底片 2 片、暗室设备及药品。			

实验步骤	<p>首先要熟悉本实验所用仪器和光学元件。打开激光器电源，点亮 He-Ne 激光器，调整其工作电流，使其输出最强的激光，然后按下述内容和步骤开始进行实验。</p> <p>(1) 漫反射全息图的拍摄</p> <p>① 按漫反射全息光路图摆放好各元件的位置，整个光路大概占实验台面的三分之二左右。②各光束都应与台面平行，通过调平面镜的俯仰角来调节。且光点都要打到各元件的中心部位。③两束光的光程差约为 20cm, 光程都是由分束镜开始算起,沿着光束前进的方向量至全息底片为止。④物光与参考光夹角为 <math>30^{\circ} \sim 50^{\circ}</math>。⑤参考光与物光的光强比为 3:1~8:1 (通过调整扩束镜的位置来实现)。⑥曝光时间为 6S。⑦上底片及曝光拍照 (底片上好后要静止 1~2min)，药膜面要正对物体放。</p> <p>(2) 白光再现反射全息图</p> <p>① 按反射全息光路摆放好各元件的位置，先不放入扩束镜 L，各光事与台面平行。② 调整硬币，使之与干板 (屏) 平行，使激光束照在硬币的中心。③ 放入扩束镜，使光均匀照射且光强适中，确定曝光时间为 3s。④ 曝光，硬币与干板间距为 1cm。</p> <p>(3) 底片处理</p> <p>① 显影。②显影后冲洗 1min，停显 30s 左右，定影 3~5min，定影后可打开白炽灯，用水冲洗干板 5~10min，再用吹风机吹干 (吹时不可太近且不可正对着吹，以免药膜收缩)。</p> <p>(4) 再现观察</p> <p>① 漫反射全息图的再现。 ② 白光再现反射全息图的观察。</p>
数据处理	本实验无数据处理内容

1. 全息照像有哪些重要特点?

答: 全息照相是利用光波的干涉和衍射原理, 将物体“发出”的特定波前 (同时包括振幅和位相) 以干涉条纹的形式记录下来, 然后在一定条件下, 利用衍射再现原物体的立体像。全息照相必须分两步进行: (1) 物体全息图的记录过程; (2) 立体物像的再现过程。

2. 全息底片和普通照像底片有什么区别?

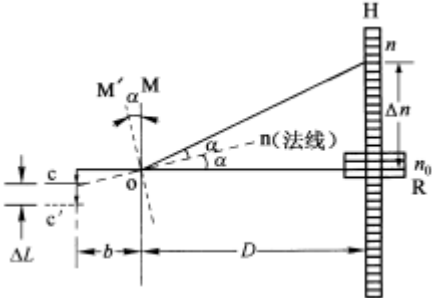
答: (1) 全息照相能够把物光波的全部信息 (即振幅和相位) 全部记录下来, 而普通照相只能记录物光波的强度 (既振幅), 因此, 全息照片能再现出与原物体完全相同的立体图象。  
(2) 由于全息照片上的每部分都包含了被摄物体上每一点的光波信息, 所以, 它具有可分割性, 即全息照片的每一部分都可以再现出原物体的立体图象。(3) 在同一张全息底片上, 可以采用不同的角度多次拍摄不同的物体, 再现时, 在不同的衍射方向上能够互不干扰地观察到每个物体的立体图象。

3. 为什么安装底片后要静止一段时间, 才能进行曝光?

答: 为了减少震动, 提高拍摄质量, 减震是全息照相的一项重要措施, 要保证照相质量, 光路中各元器件的相对位移量要限制在  $< \lambda / 2$  范围内。

5. 普通照像在冲洗底片时是在红光下进行的, 全息照像冲洗底片时为什么必须在绿光甚至全黑下进行?

答: 因为全息干板涂有对红光敏感的感光材料, 所以冲洗底片时必须在绿光甚至全黑下进行。

实验名称	金属丝弹性模量的测量		实验编号	0801002
			实验课时	3
类别	必修(√) 限选( ) 任选( )		类型	演示、验证(√) 综合、设计( )
辅助教师			职称	
授课对象	全校工科本科生、专科生			
教材讲义	王宏波等. 大学物理实验(上). 东北林业大学出版社, 2004			
实验内容(教学过程)				备注
实验目的	(1) 掌握光杠杆放大法测微小长度变化量的原理。 (2) 学会测量弹性模量的方法。 (3) 学会使用逐差法处理数据。			
实验方法原理	<p>金属柱体长 <math>L</math>, 截面积为 <math>S</math>, 沿柱的纵向施力 <math>F</math>, 物体伸长或缩短为 <math>\Delta L</math>, 则弹性模量 <math>Y = \frac{F/S}{\Delta L/L}</math>。由于 <math>\Delta L</math> 甚小, 需要用光杠杆放大后才能被较准确的被测量。</p> <p>开始时平面镜 <math>M</math> 的法线 <math>on</math> 在水平位置, 标尺 <math>H</math> 上的刻度 <math>n_0</math> 发出光通过平面镜反射, <math>n_0</math> 的像在望远镜中被观察到。加砝码时, 金属丝伸长 <math>\Delta L</math>, 光杠杆后足下落 <math>\Delta L</math>, 平面镜转过一个 <math>\alpha</math> 角, 此时标尺上刻线经平面镜反射在望远镜中被观察到。根据几何关系</p> $\tan \alpha = \frac{\Delta L}{b} \quad \tan 2\alpha = \frac{\Delta n}{D} \quad \Delta L = \frac{b}{2D} \Delta n$ <p>因而, <math>Y = \frac{8FLD}{\pi d^2 b \delta_n}</math>。由 <math>\Delta L = \frac{b}{2D} \Delta n</math> 可知, 光杠杆的放大倍数为 <math>\frac{2D}{b}</math>。</p>  <p style="text-align: center;">光杠杆放大原理图</p>			
实验装置	弹性模量测定仪			
实验准备	弹性模量测定仪, 千分尺, 直尺, 钢卷尺			

实验步骤

1. 弹性模量测定仪的调节
  - (1) 左右观察与调节
  - (2) 上下观察与调节
  - (3) 镜内观察与调节
  - (4) 视差的检测与排除
2. 加减砝码测量
3. 钢丝长度的测量
4. 钢丝直径的测量
5. 光杠杆足间距的测量

数据处理

单次测量数据处理表

	测量值 $N$	不确定度 $u = u_B$	$u / N$	$N \pm u$
$L / \text{mm}$	726.0	$\pm 2$	0.0028	$726 \pm 2$
$D / \text{mm}$	1765.0	$\pm 4$	0.0023	$1765 \pm 4$
$b / \text{mm}$	77.5	$\pm 0.9$	0.0116	$77.5 \pm 0.9$

钢丝直径  $d$  数据处理表

次数 $n$	1	2	3	4	5	6	$d$	$U_B / \text{mm}$
$d_i / \text{mm}$	0.704	0.704	0.705	0.704	0.705	0.702	0.70 4	0.004
$\Delta d_i = d_i - \bar{d} / \text{mm}$	0	0	0.001	0	0.001	0.002		
$u_A(d) = \sqrt{\frac{\sum_{i=1}^n (\Delta d_i)^2}{n(n-1)}} = 0.002 \text{mm}$		$u_B(d) = \sqrt{u_A^2(d) + u_B^2(d)} = 0.004 \text{mm}$				$\frac{u(d)}{\bar{d}} = 0.0057$		$d = \bar{d} \pm u_d = (0.704 \pm 0.004) \text{mm}$

标度尺示数及数据处理

砝码质量 / kg	0	1.00	2.00	3.00	4.00	5.00	6.00	7.00	8.00	9.00	10.0	11.0
加码读数 ( $n$ ) / mm	0	4.3	9.0	13.0	17.0	22.4	26.0	30.0	34.0	38.0	42.0	46.0
加码读数 ( $n'$ ) / mm	0.5	4.5	9.2	12.8	17.3	22.6	26.2	30.6	34.4	38.3	42.4	46.0
平均值 ( $n_i$ ) / mm	0.25	4.4	9.1	12.9	17.2	22.5	26.1	30.3	34.2	38.2	42.2	46.0
$\delta_{ni} = \bar{n}_{i+6} - \bar{n}_i / \text{mm}$		25.8	25.9	25.1	25.3	25.1	24.5	$\bar{\delta}_n = \frac{1}{6} \sum_{i=1}^6 \delta_{ni} = 25.26$				
$\Delta \delta_{ni} = \delta_{ni} - \bar{\delta}_n / \text{mm}$		0.49	0.64	-0.1	-0.0	-0.1	-0.7	$u_A(\delta_n) = \sqrt{\frac{1}{30} \sum_{i=1}^6 (\Delta \delta_{ni})^2} = 0.15$				
$u_B(\delta_n) = 0.3 / \text{mm}$		$u(\delta_n) = \sqrt{u_A^2(\delta_n) + u_B^2(\delta_n)} = 0.8$						$\frac{u(\delta_n)}{\bar{\delta}_n} = 0.012$				

数据 处 理	$\bar{Y} = \frac{8FLD}{\pi d b \delta_n} = \frac{8 \times 6 \times 9.808 \times 726 \times 10^{-3} \times 1765 \times 10^{-3}}{3.142 \times 0.704^2 \times 10^{-6} \times 77.5 \times 10^{-3} \times 25.26 \times 10^{-3}} = 1.979 \times 10^{11} N/m^2$ $\frac{u(Y)}{Y} = \sqrt{\left(\frac{u(F)}{F}\right)^2 + \left(\frac{u(L)}{L}\right)^2 + \left(\frac{u(D)}{D}\right)^2 + \left(\frac{2u(d)}{d}\right)^2 + \left(\frac{u(b)}{b}\right)^2 + \left(\frac{u(\delta_n)}{\delta_n}\right)^2} = 0.0205$ <p>标准不确定度为 <math>u(Y) = \frac{Y \cdot u(Y)}{Y} = 0.0401 \times 10^{11} N/m^2</math></p> <p>扩展不确定度为 <math>U = 2u(Y) = 0.08 \times 10^{11} N/m^2</math></p> <p>所以结果表达式为 <math>Y = (\bar{Y} \pm U) = (1.98 \pm 0.08) \times 10^{11} N/m^2</math></p>	
--------------	--	--

1. 光杠杆有什么优点，怎样提高光杠杆测量的灵敏度？

答：优点是：可以测量微小长度变化量。提高放大倍数即适当地增大标尺距离  $D$  或适当地减小光杠杆前后脚的垂直距离  $b$ ，可以提高灵敏度，因为光杠杆的放大倍数为  $2D/b$ 。

2. 何谓视差，怎样判断与消除视差？

答：眼睛对着目镜上、下移动，若望远镜十字叉丝的水平线与标尺的刻度有相对位移，这种现象叫视差，细调调焦手轮可消除视差。

3. 为什么要用逐差法处理实验数据？

答：逐差法是实验数据处理的一种基本方法，实质就是充分利用实验所得的数据，减少随机误差，具有对数据取平均的效果。因为对有些实验数据，若简单的取各次测量的平均值，中间各测量值将全部消掉，只剩始末两个读数，实际等于单次测量。为了保持多次测量的优越性，一般对这种自变量等间隔变化的情况，常把数据分成两组，两组逐次求差再算这个差的平均值。

课后答案网  
 www.hackshp.com  
 khdaw.com

实验名称	迈克耳逊干涉仪		实验编号	0801014
			实验课时	3
类别	必修(√) 限选( ) 任选( )	类型	演示、验证( ) 综合、设计(√)	
辅助教师			职称	
授课对象	全校工科本科生、专科生			
教材讲义	王宏波等. 大学物理实验(上). 东北林业大学出版社, 2004			

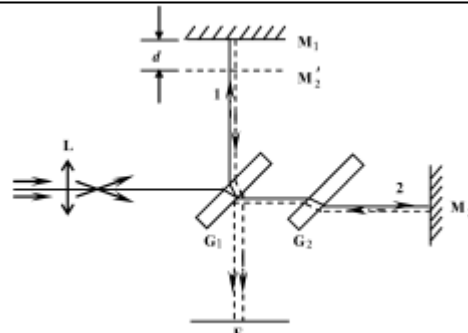
实验内容 (教学过程)

实验目的

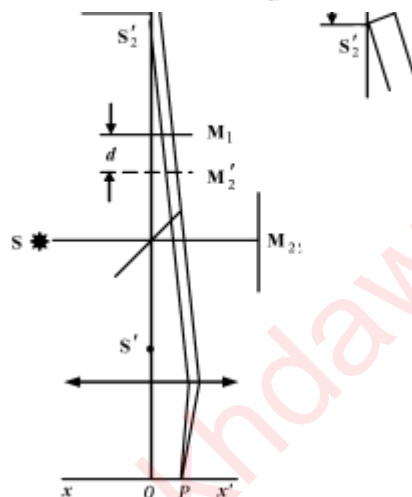
- (1) 了解迈克耳逊干涉仪的结构、原理及调节方法。
- (2) 观察点光源的等倾干涉图样, 用He-Ne激光器校准干涉仪的精密丝杠。
- (3) 观察白光干涉图样, 利用白光干涉测定透明薄膜的厚度。

实验方法原理

(1) 仪器的结构原理  
如右上图, 从光源 S 发出的光, 经透镜扩束后射至分束板  $G_1$  上, 一部分被反射, 一部分被透射, 然后被相互垂直的两平面镜  $M_1$  和  $M_2$  反射后经  $G_1$  而在屏 E 处相遇, 形成干涉条纹。



(2) 产生干涉的等效光路  
如右下图, 干涉现象可以看作是光源在  $M_1$  和  $M_2'$  反射镜中的虚光源和相干涉的结果。所以  $\overline{s_1' s_2'} = 2d$ , 当倾角为  $\theta$  时, 由  $S_1'$  和  $S_2'$  发出的相干光的光程差  $\delta = n_0 2d \cos \theta \approx 2d \cos \theta (n_0 \approx 1)$ 。



(3) 单色点光源产生的干涉  
当  $\delta = k\lambda$  ( $k$  为整数) 时为明条纹, 而  $\delta = (k + \frac{1}{2})\lambda$  时为暗条纹。  
 $\delta = 2d$  光程差最大,  $\delta$  随  $\theta$  增加而减

	<p>小,且<math>\theta</math>相同点光程差<math>\delta</math>也相同,因此屏上干涉条纹是一些同心圆环,越靠近环心条纹的级次越大。这种干涉是由光源发出的倾角相同的光干涉的结果,故称等倾干涉。当增加时,第<math>k</math>级条纹倾角<math>\theta</math>必增大,在屏上将看到条纹从圆心向外“涌出”,反之“缩进”。每当<math>d</math>改变<math>\lambda/2</math>时,就从圆心“涌出”或“缩进”一个条纹。</p> <p>(4) 等厚干涉、白光干涉</p> <p>当光源为面光源,<math>M_1</math>与<math>M_2'</math>有微小角度时,形成空气尖,发生等厚干涉。条纹是一些平行<math>M_1</math>与<math>M_2'</math>交线的直线。条纹间距与夹角呈反比。若用白光照射,可以直接在<math>M_1</math>的反射面上观察到彩色条纹。</p>
实验装置	迈克耳逊干涉仪、激光器、台灯、扩束镜、毛玻璃、薄膜。
实验准备	激光器、白织灯灯泡、毛玻璃、薄膜、螺丝刀。
实验步骤	<p>(1) 用He-Ne激光器调节迈克耳逊干涉仪,校准精密丝杠。</p> <p>① 转动干涉仪粗调手轮,使<math>M_1</math>位置适当,调节<math>M_2</math>背面的调节螺丝,使每个螺丝的位置适中,调节<math>M_2</math>镜架下的拉簧螺丝也使他们处于适中位置。</p> <p>② 打开激光器电源开关,让激光束射向<math>M_2</math>中部,使激光返回光点在在激光器出射口附近。反射光线和投射光线在<math>M_1</math>和<math>M_2</math>中部。</p> <p>③ 调节<math>M_2</math>背面的螺丝,使屏E上两排光点对应重合,并可在重合光点内看到干涉条纹</p> <p>④ 用透镜使激光扩束,调整扩束镜使扩束后的激光射到分束板上,在观察屏上就会出现明显的干涉条纹。若干涉条纹的圆心在视场之外,可轻微调整<math>M_2</math>背面的螺丝使环心向视场趋近。</p> <p>⑤ 沿同方向转动微调鼓轮,使条纹缩进或涌出,记录<math>M_1</math>的初始位置,然后每变化50条记录一次<math>M_1</math>的位置,连初始位置共测8次。</p> <p>(2) 用白光干涉的彩色条纹测定透明薄膜的厚度</p> <p>① 在前一步实验的基础上,转粗调手轮使<math>M_1</math>从<math>M_2'</math>的外部向<math>M_2'</math>靠近,同时配合调节<math>M_2</math>背面的螺丝和下部的拉簧螺钉,直到条纹变宽变稀,视场中仅能容纳一条甚至不到一条条纹为止。</p> <p>② 将毛玻璃放到分束板旁且垂直于激光束,放下观察屏,白织灯透过毛玻璃照射到分束板上,眼睛盯住平面镜<math>M_1</math>,转动微调鼓轮使<math>M_1</math>继续从<math>M_2'</math>外部向<math>M_2'</math>靠近,可见条纹向凹侧移动,直到视场中部条纹快变直时,就能观察到白光干涉的彩色条纹。此时记录<math>M_1</math>的位置<math>x_1</math>,然后在<math>M_1</math>前与<math>M_1</math>平行放入透明薄膜,必须继续沿原方向转动微调鼓轮,才能再次出现彩色条纹,在此读取<math>M_1</math>位置<math>x_2</math>。重复测量6次</p>

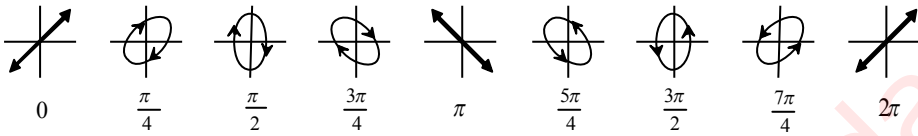
数据 处理		条纹变化数与其对应坐标值记录表								
		条纹 变化 数	0	50	100	150	200	250	300	350
		M <sub>1</sub> 位置 x /mm	32.16074	32.17668	32.19262	32.20846	32.22430	32.24071	32.25604	32.27202
		变化 100 条 M <sub>1</sub> 应移动的理论长度 $d=50\lambda=50\times 650=3.25\times 10^{-2}\text{mm}$ 。 变化 100 条 M <sub>1</sub> 移动的实际程度为 $d' = \frac{(x_4 - x_0) + (x_5 - x_1) + (x_6 - x_2) + (x_7 - x_3)}{4 \times 2} = 3.18 \times 10^{-2} \text{mm}$								
		$E_d = \frac{d - d'}{d} = -0.35\%$ 测定薄膜测量记录								
数据 处理	次 数	M <sub>1</sub> 位置/mm		$\Delta d_i =  x_1 - x_2 $ /mm	平 均 $\Delta \bar{d}$ /mm	修正后 $\Delta d = \Delta \bar{d} + E_d \Delta \bar{d}$ /mm				
		x <sub>1</sub>	x <sub>2</sub>							
	1	30.83365	30.81510	0.01855	0.018133	0.018070				
	2	30.83391	30.81600	0.01791						
	3	30.83372	30.81580	0.01792						
	4	30.83360	30.81508	0.01852						
	5	30.94281	30.92491	0.01790						
	6	30.94260	30.92460	0.01800						
$u_A(\Delta d) = \sqrt{\frac{\sum_{i=1}^6 (\Delta \bar{d} - \Delta d_i)^2}{n(n-1)}} = 0.00013 \text{ mm} \quad u_B(\Delta d) = \mathbf{0.0002} \text{ mm}$ $u(\Delta d) = \sqrt{u_A^2(\Delta d) + u_B^2(\Delta d)} = 0.00024 \text{ mm} \quad S = \Delta d \left( \frac{n}{n_0} - 1 \right)^{-1} = 0.0333670 \text{ mm}$ $u_c(\Delta S) = \left( \frac{n}{n_0} - 1 \right)^{-1} u(\Delta d) = 0.0006 \text{ mm} \quad U = 2u_c(\Delta S) = 0.0012 \text{ mm}$ $S = S \pm U = (0.033 \pm 0.001) \text{ mm} \quad k = 2$										

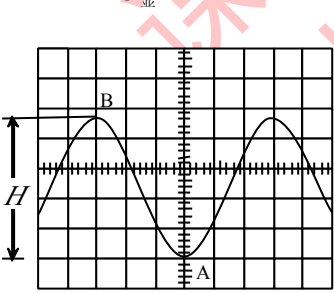
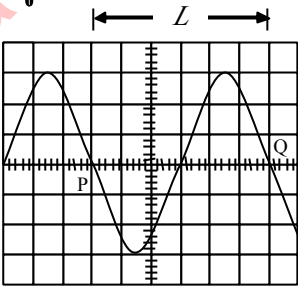
1. 这里观察到的环形干涉条纹，从外观上看，与牛顿环有哪些相似之处？从产生的原因和由内向外级次的变化来看有何不同？ 答：从外观上看都是同心圆环，而牛顿环是等厚干涉，这里是等倾干涉，牛顿环是低级次的干涉条纹在中心，越外级次越高，而迈氏干涉正相反。

2. 在 M<sub>1</sub> 如图 3-14-4 所示的移动过程中，将看到条纹的疏密和运动情况有何变化？ 答：从密到疏，从疏到密，从条纹向环心缩进到从环心向外涌出。



3. 白光照射下,  $M_1$  在  $G_1$  和  $M_2'$  之间并逐渐向  $M_2'$  移动过程中, 能否观察到彩色干涉条纹? 可否用这种做法来测量薄膜厚度? 为什么? 答: 能观察到, 但是在实际测量中, 一般不采用这种做法, 原因是对于初学者而言, 由于实验经验等因素, 非常容易产生回程误差, 给实验结果带来影响。

实验名称	示波器的原理和使用		实验编号	0801008
			实验课时	3
类别	必修 (√) 限选 ( ) 任选 ( )	类型	演示、验证 ( ) 综合、设计 (√)	
辅助教师			职称	
授课对象	全校工科本科生、专科生			
教材讲义	王宏波等. 大学物理实验(上). 东北林业大学出版社, 2004			
实验内容 (教学过程)				
实验目的	<p>(1) 了解示波器的主要结构和显示波形的基本原理;</p> <p>(2) 掌握模拟示波器和函数信号发生器的使用方法;</p> <p>(3) 观察正弦、矩形、三角波等信号发生器的使用方法;</p> <p>(4) 通过示波器观察李萨如图形, 学会一种测量正弦振动频率的方法, 并加深对互相垂直振动合成理论的理解。</p>			
实验方法原理	<p>(1) 模拟示波器的基本构造 示波器主要由示波管、垂直放大器、水平放大器、扫描信号放大器、触发同步等几个基本部分组成。</p> <p>(2) 示波器显示波形原理 如果只在垂直偏转板上加一交变正弦电压, 则电子束的亮点随电压的变化在竖直方向上按正弦规律变化。要想显示波形, 必须同时在水平偏转板上加一扫描电压, 使电子束所产生的亮点沿水平方向拉开。</p> <p>(3) 扫描同步 当扫描电压的周期 <math>T_s</math> 是被观察周期信号的整数倍时, 扫描的后一个周期扫绘的波形与前一个周期完全一样, 荧光屏上得到清晰而稳定的波形, 这叫做信号与扫描电压同步。</p> <p>(4) 多踪显示 根据开关信号的转换频率不同, 有两种不同的时间分割方式, 即“交替”和“断续”方式。</p> <p>(5) 观察李萨如图形并测频率  <math display="block">\frac{X\text{方向切线对图形的切点数 } N_x}{Y\text{方向切线对图形的切点数 } N_y} = \frac{f_y}{f_x}</math> </p> <div style="text-align: center;">  </div> <p style="text-align: center;">频率相同位相不同时的李萨如图形</p>			

实验装置	YB4320F 示波器一台, F10 型数字合成函数信号发生器一台, RC 移相板一个																						
实验准备	专用连接导线																						
实验步骤	<p>(1) 熟悉示波器各控制开关的作用, 进行使用前的检查和校准。</p> <p>(2) 将信号发生器的输出信号连接到示波器的 CH1 或 CH2, 观察信号波形。</p> <p>(3) 用示波器测量信号的周期 <math>T</math>、频率 <math>f</math>、幅值 <math>U</math>、峰-峰值 <math>U_{p-p}</math>、有效值 <math>U_{rms}</math>、频率和幅值任选。</p> <p>(4) 观察李萨如图形和“拍”。</p> <p>(5) 利用多波形显示法和李萨如图形判别法观测两信号的相位差</p> <p>① 多波形显示法观测相位差。</p> <p>② 李萨如图形判别法观测相位差。</p>																						
数据处理	<p>(1) 测量正弦信号峰峰值 <math>U_{p-p}</math>, 周期 <math>T</math></p> <table border="1" data-bbox="395 891 1299 1093"> <thead> <tr> <th colspan="3">示波器测量值</th> <th>信号发生器显示值</th> </tr> </thead> <tbody> <tr> <td><math>H=4.0\text{DIV}</math></td> <td><math>V_0/\text{DIV}=0.5\text{V}/\text{DIV}</math></td> <td><math>U_{p-p}=2.0\text{V}</math></td> <td><math>U_{\text{显}} = 2.0\text{V}</math></td> </tr> <tr> <td><math>L=5.0\text{DIV}</math></td> <td><math>T_0/\text{DIV}=20\mu\text{s}/\text{DIV}</math></td> <td><math>T=0.10\text{ms}</math></td> <td><math>T_{\text{显}} = 0.10\text{ms}</math></td> </tr> </tbody> </table> <p> <math>E_{u_{p-p}} = \frac{ U_{p-p} - U_{\text{显}} }{U_{\text{显}}} = 0</math>      <math>E_T = \frac{ T - T_0 }{T_0} = 0</math> </p> <div style="display: flex; justify-content: space-around;"> <div data-bbox="316 1189 651 1480">  <p>测量信号电压值</p> </div> <div data-bbox="767 1189 1066 1480">  <p>测量波形周期和频率</p> </div> </div> <p>(2) 测量直流信号的幅度</p> <table border="1" data-bbox="236 1641 1155 1711"> <tbody> <tr> <td><math>H=5.8</math></td> <td><math>V_0 / \text{DIV}=0.5\text{V}/\text{DIV}</math></td> <td><math>U = 2.9\text{V}</math></td> <td><math>U_{\text{显}} = 3.0\text{V}</math></td> </tr> </tbody> </table> <p>(3) 测量相移</p> <table border="1" data-bbox="236 1805 1155 1955"> <tbody> <tr> <td><math>x_1/\text{DIV}</math></td> <td><math>x/\text{DIV}</math></td> <td><math>\theta = \frac{x_1}{x} \times 360^\circ</math></td> </tr> <tr> <td>5.3</td> <td>25.0</td> <td><math>76.32^\circ</math></td> </tr> </tbody> </table>	示波器测量值			信号发生器显示值	$H=4.0\text{DIV}$	$V_0/\text{DIV}=0.5\text{V}/\text{DIV}$	$U_{p-p}=2.0\text{V}$	$U_{\text{显}} = 2.0\text{V}$	$L=5.0\text{DIV}$	$T_0/\text{DIV}=20\mu\text{s}/\text{DIV}$	$T=0.10\text{ms}$	$T_{\text{显}} = 0.10\text{ms}$	$H=5.8$	$V_0 / \text{DIV}=0.5\text{V}/\text{DIV}$	$U = 2.9\text{V}$	$U_{\text{显}} = 3.0\text{V}$	$x_1/\text{DIV}$	$x/\text{DIV}$	$\theta = \frac{x_1}{x} \times 360^\circ$	5.3	25.0	$76.32^\circ$
示波器测量值			信号发生器显示值																				
$H=4.0\text{DIV}$	$V_0/\text{DIV}=0.5\text{V}/\text{DIV}$	$U_{p-p}=2.0\text{V}$	$U_{\text{显}} = 2.0\text{V}$																				
$L=5.0\text{DIV}$	$T_0/\text{DIV}=20\mu\text{s}/\text{DIV}$	$T=0.10\text{ms}$	$T_{\text{显}} = 0.10\text{ms}$																				
$H=5.8$	$V_0 / \text{DIV}=0.5\text{V}/\text{DIV}$	$U = 2.9\text{V}$	$U_{\text{显}} = 3.0\text{V}$																				
$x_1/\text{DIV}$	$x/\text{DIV}$	$\theta = \frac{x_1}{x} \times 360^\circ$																					
5.3	25.0	$76.32^\circ$																					

1. 模拟示波器为何能显示高速变化的电信号轨迹？

答：在模拟示波器垂直偏转板上加的是被观测信号电压，而在水平偏转板上加的是锯齿波（时间线性变化）信号电压，所以示波器的示波管的横轴相当于直角坐标的时间轴，经过一个锯齿波信号周期，电子束便在示波管的荧光屏上描绘出被观测信号的波形的一段轨迹。当锯齿波信号的周期大于或等于周期性观测信号的周期且与其相位锁定时（同步），电子束便在示波管的荧光屏上描绘出被观测信号的波形的同一段轨迹，由于人眼的视觉暂留和荧光屏的余辉，便可以观测到信号的波形。

2. 在本实验中，观察李萨如图形时，为什么得不到长时间稳定的图形？

答：因为 CH1 与 CH2 输入的是两个完全不相关的信号，它们的位相差难以保持恒定，所以得不到长时间的稳定波形。

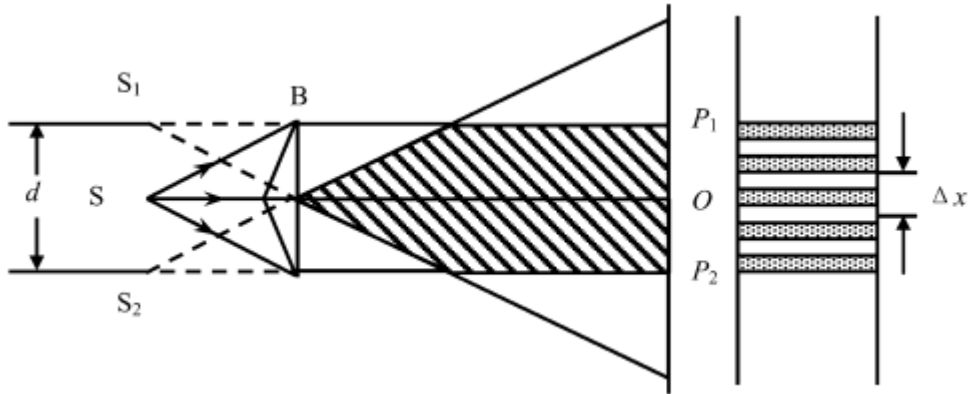
3. 假定在示波器的 Y 轴输入一个正弦信号，所用的水平扫描频率为 120Hz，在荧光屏上出现三个稳定完整的正弦波形，那么输入信号的频率是什么？这是否是测量信号频率的好方法？为何？

答：输入信号的频率是 360Hz。这种方法不是测量信号频率的好方法，因为用此方法测量的频率精确度低。

4. 示波器的扫描频率远大于或远小于输入正弦信号的频率时，屏上的图形是什么情况？

答：扫描频率远小于输入正弦信号频率时，出现图形是密集正弦波；扫描频率远大于输入正弦信号频率时，一个周期的信号波形将会被分解成数段，显示的图形将会变成网状交叉线。

课后答案网  
www.hackshp.com  
khdaw.com

实验名称	双棱镜干涉		实验编号	0801018
			实验课时	3
类别	必修 (√) 限选 ( ) 任选 ( )	类型	演示、验证 (√) 综合、设计 ( )	
辅助教师			职称	
授课对象	全校工科本科生、专科生			
教材讲义	王宏波等. 大学物理实验(上). 东北林业大学出版社, 2004			
实验内容 (教学过程)				
实验目的	(1) 观察双棱镜干涉现象,测量钠光的波长。 (2) 学习和巩固光路的同轴调整。			
实验方法原理	<p>双棱镜干涉实验与双缝实验、双面镜实验等一样,都为光的波动学说的建立起过决定性作用,同时也是测量光波波长的—种简单的实验方法。双棱镜干涉是光的分波阵面干涉现象,由S发出的单色光经双棱镜折射后分成两列,相当于从两个虚光源<math>S_1</math>和<math>S_2</math>射出的两束相干光。这两束光在重叠区域内产生干涉,在该区域内放置的测微目镜中可以观察到干涉条纹。根据光的干涉理论能够得出相邻两明(暗)条纹间的距离为<math>\Delta x = \frac{d}{D} \lambda</math>,即可有<math>\lambda = \frac{d}{D} \Delta x</math>其中d为两个虚光源的距离,用共轭法来测,即<math>d = \sqrt{d_1 d_2}</math>;D为虚光源到接收屏之间的距离,在该实验中我们测的是狭缝到测微目镜的距离;<math>\Delta x</math>很小,由测微目镜测量。</p> 			
实验装置	测微目镜、狭缝、双棱镜、凸透镜、辅助杆各1个,光具座、钠光灯两人共用			
实验准备	检查实验装置构成配件是否齐全、正常,特别是钠光灯。			

实验步骤

(1) 仪器调节

① 粗调

将缝的位置放好，调至竖直，根据缝的位置来调节其他元件的左右和高低位置，使各元件中心大致等高。

② 细调

根据透镜成像规律用共轭法进行调节。使得狭缝到测微目镜的距离大于透镜的四倍焦距，这样通过移动透镜能够在测微目镜处找到两次成像。首先将双棱镜拿掉，此时狭缝为物，将放大像缩小像中心调至等高，然后使测微目镜能够接收到两次成像，最后放入双棱镜，调双棱镜的左右位置，使得两虚光源成像亮度相同，则细调完成。各元件中心基本达到同轴。

(2) 观察调节干涉条纹

调出清晰的干涉条纹。视场不可太亮，缝不可太宽，同时双棱镜棱脊与狭缝应严格平行。取下透镜，为方便调节可先将测微目镜移至近处，待调出清晰的干涉条纹后再将测微目镜移到满足大于透镜四倍焦距的位置。

(3) 随着  $D$  的增加观察干涉条纹的变化规律。

(4) 测量

① 测量条纹间距  $\Delta x$

② 用共轭法测量两虚光源  $S_1$  和  $S_2$  的距离  $d$

③ 测量狭缝到测微目镜叉丝的距离  $D$

数据处理

测  $\Delta x$  数据记录

mm

次数	条纹位置		被测条纹数	$ a-a' $	$\Delta x$
	起始位置 $a$	终止位置 $a'$			
1	8.095	3.575	10	4.520	0.4520
2	3.554	8.035	10	4.481	0.4481
3	8.030	3.573	10	4.457	0.4457
4	3.550	8.100	10	4.550	0.4550
5	8.184	3.680	10	4.504	0.4504
6	3.593	8.080	10	4.487	0.4487

$\Delta x = 0.44998\text{mm}$

测  $d$  数据记录

mm

次数	放大像间距 $d_1$			缩小像间距 $d_2$		
	$a_1$	$a_1'$	$ a_1-a_1' $	$a_2$	$a_2'$	$ a_2-a_2' $
1	7.560	5.774	1.786	7.357	6.965	0.410
2	5.771	7.561	1.790	6.933	7.360	0.428
3	7.538	5.766	1.772	7.381	6.968	0.413
4	5.755	7.549	1.794	6.910	7.330	0.420
5	7.520	5.753	1.767	7.355	6.940	0.415
6	5.735	7.515	1.780	6.951	7.360	0.409

$\overline{d_1} = 1.7915\text{mm}; \overline{d_2} = 0.4158\text{mm}$

测  $D$  数据记录

mm

狭缝位置 $b$	测微目镜叉丝位置 $b'$	$D= b-b' $
1	660	659

数据处理

(1)  $\Delta x$ 的不确定度

$$u_A(\Delta x) = 0.001329\text{mm}; \quad u_B(\Delta x) = \frac{\Delta_{\text{仪}}}{\sqrt{3}} = 0.005770\text{mm};$$

$$u(\Delta x) = \sqrt{u_A^2(x) + u_B^2(x)} = 0.005921\text{mm}。$$

(2) 求  $d_1$  与  $d_2$  的不确定度

$$u_A(d_1) = 0.004288\text{mm}; \quad u_A(d_2) = 0.002915\text{mm};$$

$$u_B(d_1) = 0.007\text{mm}; \quad u_B(d_2) = 0.005\text{mm}; \quad u_B(d) = \frac{\Delta_{\text{仪}}}{\sqrt{3}} = 0.005770\text{mm};$$

$$u(d_1) = \sqrt{u_A^2(d_1) + u_B^2(d_1) + u_B^2(d)} = 0.01003\text{mm};$$

$$u(d_2) = \sqrt{u_A^2(d_2) + u_B^2(d_2) + u_B^2(d)} = 0.00817\text{mm}。$$

(3) 求  $D$  的不确定度

$$u(D) = 1\text{mm}。$$

(4) 波长的合成相对不确定度

$$\frac{u_c(\lambda)}{\lambda} = \sqrt{\left(\frac{u(\Delta x)}{\Delta x}\right)^2 + \left(\frac{u(d)}{d}\right)^2 + \left(\frac{u(D)}{D}\right)^2} = 4.128 \times 10^{-4} \text{ mm};$$

$$\text{其中 } \left(\frac{u(d)}{d}\right)^2 = \frac{1}{4} \left(\frac{u(d_1)}{d_1}\right)^2 + \frac{1}{4} \left(\frac{u(d_2)}{d_2}\right)^2 = 1.374 \times 10^{-5} \text{ mm}。$$

(5) 测量结果

① 由  $\lambda = \frac{d}{D} \Delta x$  求得  $\bar{\lambda} = 5.87731 \times 10^{-4} \text{ mm}。$

②  $u_c(\lambda) = 2.427 \times 10^{-7} \text{ mm};$  包含因子  $k=2$  时,  $\lambda$  的扩展不确定度  $U = 2u_c(\lambda)$  结果表达式为

$$\lambda = \bar{\lambda} + U = (5.877 \pm 0.005) \times 10^{-4} \text{ mm}。$$

1. 测量前仪器调节应达到什么要求?怎样才能调节出清晰的干涉条纹?

2. 答: 共轴, 狭缝和棱背平行与测微目镜共轴, 并适当调节狭缝的宽度。

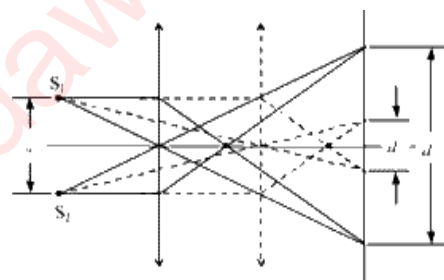
2. 本实验如何测得两虚光源的距离  $d$ ? 还有其他办法吗?

答:  $d = (d_1 * d_2)^{1/2}$  或利用波长  $\lambda$  已知的激光作光源, 则  $d = (D / \Delta x) \lambda$

3. 狭缝与测微目镜的距离及与双棱镜的距离改变时, 条纹的间距和数量有何变化?

答: 狭缝和测微目镜的距离越近, 条纹的间距越窄, 数量不变, 狭缝和双棱镜的距离越近, 条纹间距越宽, 数量越小。

4. 在同一图内画出相距为  $d$  虚光源的  $S_1$  和  $S_2$  所成的像  $d_1$  和  $d_2$  的光路图。



实验名称	随机误差的统计规律	实验编号	0801003
		实验课时	3
类别	必修(√) 限选( ) 任选( )	类型	演示、验证( )综合、设计(√)
辅助教师		职称	
授课对象	全校工科本科生、专科生		
教材讲义	王宏波等. 大学物理实验(上). 东北林业大学出版社, 2004		
实验内容(教学过程)			备注
实验目的	(1) 通过一些简单测量, 加深对随机误差统计规律的认识 (2) 学习正确估算随机误差、正确表达直接测量结果的一般方法 (3) 了解运用统计方法研究物理现象的简单过程		
实验方法原理	对某一物理量在相同条件下进行 $n$ 次重复测量( $n > 100$ ), 得到 $n$ 个结果 $x_1, x_2, \dots, x_n$ , 先找出它的最小值和最大值, 然后确定一个区间 $[x', x'']$ , 使这个区间包含了全部测量数据。将区间 $[x', x'']$ 分成若干个小小区间, 比如 $K$ 个, 则每个小区间的间隔 $\Delta$ 为 $\Delta = \frac{x'' - x'}{K}$ , 统计测量结果出现在各个小区间的次数 $M$ (称为频数)。以测量数据为横坐标, 只需标明各区间的中点值, 以频数 $M$ 为纵坐标, 画出各小小区间及其对应的频数高度, 则可得到一组矩形图, 这就是统计直方图。直方图的包络表示频数的分布, 它反映了测量数据的分布规律, 也即随机误差的分布规律。		
实验装置	单摆、游标卡尺、钢卷尺、秒表		
实验准备	摆线、摆球、游标卡尺、钢卷尺、秒表		
实验步骤	(1) 用钢卷尺测量摆线长。 (2) 用游标卡尺测量摆球直径。 (3) 当摆长不变, 摆角 (小于 $5^\circ$ ) 保持一定时, 摆动的周期是一个恒量, 用数字秒表测量单摆的周期至少 100 次, 计算测量结果的平均值 $\bar{T}$ 和算术平均值的标准差 $S(\bar{x})$ 。 (4) 保持摆长不变, 一次测量 20 个以上全振动的时间间隔, 算出振动周期。		



数据处理

2.07	2.12	2.12	2.16	2.16	2.03	2.06	2.03	2.23	1.84
2.00	2.22	2.11	2.01	2.31	1.94	2.12	2.19	2.06	2.13
2.43	2.12	2.22	2.22	2.13	1.81	1.99	2.03	2.12	2.17
1.91	2.18	2.03	2.19	2.28	2.06	2.06	2.16	2.00	2.00
2.06	2.28	2.16	2.12	2.00	2.09	2.12	1.97	2.11	2.22
2.10	2.03	2.09	1.94	1.93	2.06	2.11	2.13	2.09	2.06
1.94	1.90	1.99	1.91	2.12	2.16	2.13	2.13	2.18	1.91
2.00	1.98	2.00	2.04	2.12	2.05	2.06	2.12	2.03	2.23
2.06	2.25	2.16	2.10	2.11	2.07	2.04	2.09	2.19	2.35
1.99	2.04	2.13	2.22	2.09	2.07	2.10	2.00	2.12	2.07

小区间	小区间中点值	频数 $M$	相对频数 $M/n$
1.811 ~ 1.872	1.841	2	0.02
1.872 ~ 1.934	1.093	5	0.05
1.934 ~ 1.996	1.965	8	0.08
1.996 ~ 2.058	2.027	18	0.18
2.058 ~ 2.120	2.089	34	0.34
2.120 ~ 2.182	2.151	19	0.19
2.182 ~ 2.244	2.213	8	0.08
2.244 ~ 2.306	2.275	3	0.03
2.306 ~ 2.368	2.337	2	0.02
2.368 ~ 2.430	2.399	1	0.01

$$l = 0.990 \text{ m} \quad d = 0.03364 \text{ m} \quad L = l + \frac{d}{2} = 1.00682 \text{ m}$$

$$20 T'' = 40.44 \text{ s}$$

$$\bar{T} = \frac{\sum_{i=1}^{100} x_i}{100} = 2.051 \text{ s}$$

$$S(\bar{x}) = \sqrt{\frac{\sum_{i=1}^{100} (x_i - \bar{x})^2}{n(n-1)}} = 0.006724 \text{ s}$$

$$T = \bar{T} \pm 2S(\bar{x}) = (2.05 \pm 0.01) \text{ s}$$

$$T' = \frac{40.44}{20} = 2.022 \text{ s}$$

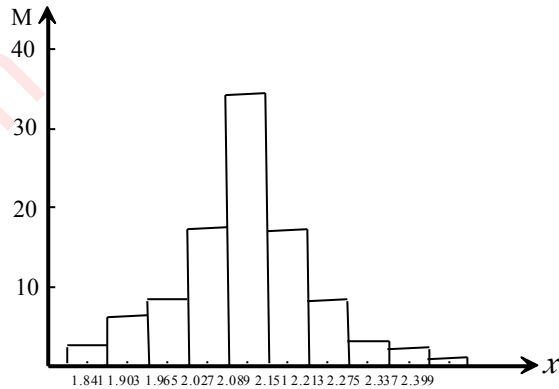
$$g_{\bar{T}} = \frac{4\pi^2}{\bar{T}^2} L = 9.2910 \text{ m/s}^2$$

$$g_{T'} = \frac{4\pi^2}{T'^2} L = 9.5594 \text{ m/s}^2$$

$$g_0 = 9.80891 \text{ m/s}^2$$

$$E_{\bar{T}} = \frac{|g_{\bar{T}} - g_0|}{g_0} \times 100\% = 5.28\%$$

$$E_{T'} = \frac{|g_{T'} - g_0|}{g_0} \times 100\% = 2.54\%$$



单摆周期统计直方图

1. 什么是统计直方图？什么是正态分布曲线？两者有何关系与区别？

答：对某一物理量在相同条件下做  $n$  次重复测量，得到一系列测量值，找出它的最大值和最小值，然后确定一个区间，使其包含全部测量数据，将区间分成若干小区间，统计测量结果出现在各小区间的频数  $M$ ，以测量数据为横坐标，以频数  $M$  为纵坐标，划出各小区间及其对应的频数高度，则可得到一个矩形图，即统计直方图。

如果测量次数愈多，区间愈分愈小，则统计直方图将逐渐接近一条光滑的曲线，当  $n$  趋向于无穷大时的分布称为正态分布，分布曲线为正态分布曲线。

2. 如果所测得的一组数据，其离散程度比表中数据大，也就是即  $S(x)$  比较大，则所得到的周期平均值是否也会差异很大？

答：（不会有很大差距，根据随机误差的统计规律的特点规律，我们知道当测量次数比较大时，对测量数据取和求平均，正负误差几乎相互抵消，各误差的代数和趋于零。

实验名称	液体粘滞系数的测定		实验编号	0801005
			实验课时	3
类别	必修(√) 限选( ) 任选( )	类型	演示、验证(√) 综合、设计( )	
辅助教师			职称	
授课对象	全校工科本科生、专科生			
教材讲义	王宏波等. 大学物理实验(上). 东北林业大学出版社, 2004			
实验内容(教学过程)				
实验目的	<p>(1) 观察液体的内摩擦现象,了解小球在液体中下落的运动规律。</p> <p>(2) 用多管落球法测定液体粘滞系数。</p> <p>(3) 掌握读数显微镜及停表的使用方法。</p> <p>(4) 学习用外延扩展法获得理想条件的思想方法。</p> <p>(5) 用作图法及最小二乘法处理数据。</p>			
实验方法原理	<p>液体流动时,各层之间有相对运动,任意两层间产生等值反向的作用力,称其为内摩擦力或粘滞力<math>f</math>,<math>f</math>的方向沿液层接触面,其大小与接触面积<math>S</math>及速度梯度成正比,即 <math>f = \eta S \frac{dv}{dx}</math></p> <p>当密度为<math>\rho</math>的小球缓慢下落时, 根据斯托克斯定律可知,小球受到的摩擦阻力为 <math>f = 3\pi\eta v d</math></p> <p>小球匀速下落时, 小球所受的重力<math>\rho v g</math>,浮力<math>\rho_0 v g</math>,及摩擦阻力<math>f</math>平衡, 有</p> $V(\rho - \rho_0)g = 3\pi\eta v_0 d$ $\frac{1}{6}\pi d^3(\rho - \rho_0)g = 3\pi\eta v_0 d$ $\eta = \frac{(\rho - \rho_0)gd^2}{18v_0}$ <p>大量的实验数据分析表明 <math>t</math> 与 <math>d/D</math> 成线性关系。以 <math>t</math> 为纵轴, <math>d/D</math> 为横轴的实验图线为一直线, 直线在 <math>t</math> 轴上的截距为 <math>t_0</math>, 此时为无限广延的液体小球下所需要的时间, 故 <math>v_0 = L/t</math></p> <p>实验图线为直线, 因此有 <math>t = t_0 + ax</math></p> <p>可用最小二乘法确定 <math>a</math> 和 <math>t_0</math> 的值。</p>			
实验装置	盛有蓖麻油的量筒 6 个, 读数显微镜			
实验准备	小钢球 8~10 个			

实验步骤	<p>(1) 用读数显微镜测钢珠的直径。</p> <p>(2) 用卡尺量量筒的内径。</p> <p>(3) 向量筒内投入钢球，并测出钢球通过上下两划痕之间距离所需要的时间。</p> <p>(4) 记录室温。</p>
------	---

数据处理	<table border="1" style="width: 100%; border-collapse: collapse;"> <thead> <tr> <th>序号</th> <th colspan="2">小球直径 /mm</th> <th>量筒直径 <math>D</math> /mm</th> <th>时间 <math>t</math> /s</th> <th><math>\frac{\bar{d}}{D} \times 10^{-2}</math></th> <th>室温 <math>T</math> /度</th> </tr> </thead> <tbody> <tr> <td rowspan="3" style="text-align: center;">1</td> <td style="text-align: center;">1.308</td> <td rowspan="3" style="text-align: center;">1.304</td> <td rowspan="3" style="text-align: center;">50.14</td> <td rowspan="3" style="text-align: center;">25.41</td> <td rowspan="3" style="text-align: center;">2.61</td> <td rowspan="9" style="text-align: center; vertical-align: middle;">17.8</td> </tr> <tr> <td style="text-align: center;">1.309</td> </tr> <tr> <td style="text-align: center;">1.295</td> </tr> <tr> <td rowspan="3" style="text-align: center;">2</td> <td style="text-align: center;">1.301</td> <td rowspan="3" style="text-align: center;">1.301</td> <td rowspan="3" style="text-align: center;">40.10</td> <td rowspan="3" style="text-align: center;">25.63</td> <td rowspan="3" style="text-align: center;">3.24</td> </tr> <tr> <td style="text-align: center;">1.301</td> </tr> <tr> <td style="text-align: center;">1.300</td> </tr> <tr> <td rowspan="3" style="text-align: center;">3</td> <td style="text-align: center;">1.300</td> <td rowspan="3" style="text-align: center;">1.302</td> <td rowspan="3" style="text-align: center;">31.18</td> <td rowspan="3" style="text-align: center;">25.72</td> <td rowspan="3" style="text-align: center;">4.18</td> </tr> <tr> <td style="text-align: center;">1.303</td> </tr> <tr> <td style="text-align: center;">1.303</td> </tr> <tr> <td rowspan="3" style="text-align: center;">4</td> <td style="text-align: center;">1.303</td> <td rowspan="3" style="text-align: center;">1.302</td> <td rowspan="3" style="text-align: center;">23.42</td> <td rowspan="3" style="text-align: center;">25.96</td> <td rowspan="3" style="text-align: center;">5.56</td> </tr> <tr> <td style="text-align: center;">1.304</td> </tr> <tr> <td style="text-align: center;">1.298</td> </tr> <tr> <td rowspan="3" style="text-align: center;">5</td> <td style="text-align: center;">1.310</td> <td rowspan="3" style="text-align: center;">1.305</td> <td rowspan="3" style="text-align: center;">18.96</td> <td rowspan="3" style="text-align: center;">26.28</td> <td rowspan="3" style="text-align: center;">6.88</td> </tr> <tr> <td style="text-align: center;">1.304</td> </tr> <tr> <td style="text-align: center;">1.301</td> </tr> <tr> <td rowspan="3" style="text-align: center;">6</td> <td style="text-align: center;">1.308</td> <td rowspan="3" style="text-align: center;">1.304</td> <td rowspan="3" style="text-align: center;">14.26</td> <td rowspan="3" style="text-align: center;">26.34</td> <td rowspan="3" style="text-align: center;">9.14</td> </tr> <tr> <td style="text-align: center;">1.306</td> </tr> <tr> <td style="text-align: center;">1.298</td> </tr> </tbody> </table> <p>用最小二乘法计算 <math>t_0</math></p> $\bar{t} = 26.01 \quad \bar{x} = 0.0527$ $\overline{xt} = 1.37 \quad \overline{x^2} = 0.000328$ $a = \frac{0.0527 \times 26.01 - 1.37}{0.0527^2 - 0.000328} = -2.29$ $t_0 = 25.89 - (-2.29) \times 0.0527 = 26.01s$ $v_0 = \frac{L}{t_0} = 4.61mm/s$ $\eta = \frac{(\rho - \rho')gd^2}{18v_0} = 1.37 \times 10^{-3} kg/m \cdot s$	序号	小球直径 /mm		量筒直径 $D$ /mm	时间 $t$ /s	$\frac{\bar{d}}{D} \times 10^{-2}$	室温 $T$ /度	1	1.308	1.304	50.14	25.41	2.61	17.8	1.309	1.295	2	1.301	1.301	40.10	25.63	3.24	1.301	1.300	3	1.300	1.302	31.18	25.72	4.18	1.303	1.303	4	1.303	1.302	23.42	25.96	5.56	1.304	1.298	5	1.310	1.305	18.96	26.28	6.88	1.304	1.301	6	1.308	1.304	14.26	26.34	9.14	1.306	1.298
序号	小球直径 /mm		量筒直径 $D$ /mm	时间 $t$ /s	$\frac{\bar{d}}{D} \times 10^{-2}$	室温 $T$ /度																																																			
1	1.308	1.304	50.14	25.41	2.61	17.8																																																			
	1.309																																																								
	1.295																																																								
2	1.301	1.301	40.10	25.63	3.24																																																				
	1.301																																																								
	1.300																																																								
3	1.300	1.302	31.18	25.72	4.18																																																				
	1.303																																																								
	1.303																																																								
4	1.303	1.302	23.42	25.96	5.56																																																				
	1.304																																																								
	1.298																																																								
5	1.310	1.305	18.96	26.28	6.88																																																				
	1.304																																																								
	1.301																																																								
6	1.308	1.304	14.26	26.34	9.14																																																				
	1.306																																																								
	1.298																																																								

1. 用误差理论分析本实验产生误差（测量不确定度）的主要原因。怎样减小它的测量误差？

答：主要有小球半径测量不确定度  $u(d)$ 、小球下落距离测量不确定度  $u(L)$  和小球下落时间测量不确定度  $u(t)$  等。①  $u(d)$  有两种原因：①是小球直径不均匀，因此应求平均半径；②是仪器误差。②  $u(L)$  有两种原因：①用钢板尺测  $L$  所带来的误差；②按计数器时，因小球刚好没有对齐标示线而产生的误差。③  $u(t)$  按计数器时所产生的误差。

分析结果可见，小球直径的误差对测量结果影响最大，所以小球不能太小，其次量筒应适当加长，以增加落球时间，从而减少时间测量的误差。

2. 量筒的上刻痕线是否可在液面位置？为什么？

答：不能。因为开始小球是加速运动，只有当小球所受的重力、浮力、粘滞力三力平衡后，小球做匀速运动时，才可以计时，所以不能从液面开始。

3. 为什么小球要沿量筒轴线下落？

答：圆形玻璃量筒的筒壁对小球运动产生严重影响，只能在轴线上运动，才能使筒壁横向的作用力合力为零。

课后答案网  
www.hackshp.cn

khdaw.com

3. 测量凹透镜焦距  $f$  和实验室给出的  $f_0$ , 比较后计算出的  $E$  值(相对误差)一般比较大, 试分析  $E$  大的原因?

答:  $E$  较大的原因可能是因为放入凹透镜后所成像的清晰度很难确定, 即像的聚焦情况不好, 从而导致很难测出清晰成像的位置。

4. 在测量凸透镜的焦距时, 可以利用测得的多组  $u$ 、 $v$  值, 然后以  $u+v$  作纵轴, 以  $u \cdot v$  作横轴, 画出实验曲线。根据式(3-15-1)事先推断一下实验曲线将属于什么类型, 怎样根据这条曲线求出透镜的焦距  $f$ ?

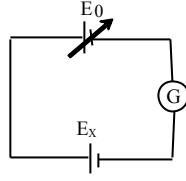
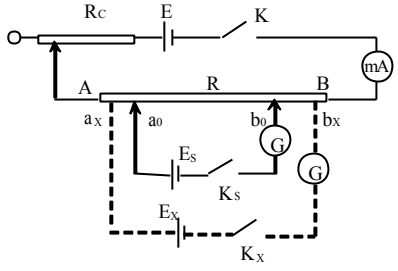
答: 曲线是直线, 可根据直线的斜率求出  $f$ ,  $f=1/k$ , 因为  $1/f=1/u+1/v$ , 即  $f = \frac{uv}{u+v}$ , 故可有  $f=1/k$ 。

5. 测量凸透镜的焦距时, 可以测得多组  $u$ 、 $v$  值, 以  $v/u$ (即像的放大率)作纵轴, 以  $v$  作横轴, 画出实验曲线。试问这条实验曲线具有什么形状? 怎样由这条曲线求出透镜的焦距  $f$ ?

答: 曲线是直线, 在横轴上的截距就是  $f$ 。

课后答案网  
www.hackshp.cn

khdaw.com

实验名称	用电位差计测量电动势	实验编号	0801010
		实验课时	3
类别	必修 (√) 限选 ( ) 任选 ( )	类型	演示、验证 (√) 综合、设计 ( )
辅助教师		职称	
授课对象	全校工科本科生、专科生		
教材讲义	王宏波等. 大学物理实验(上). 东北林业大学出版社, 2004		
实验内容 (教学过程)			备注
实验目的	<p>(1) 掌握电位差计的基本线路及测量原理。</p> <p>(2) 掌握用线式电位差计、UJ37箱式电位差计测量电动势的电压的基本实验方法。</p>		
实验方法原理	<p>(1) 用补偿法准确测量电动势 (原理)</p> <p>如图 3-10-2 所示。E<sub>x</sub> 是待测电源，E<sub>0</sub> 是电动势可调的电源，E<sub>0</sub> 和 E<sub>x</sub> 通过检流计联在一起。当调节 E<sub>0</sub> 的大小，使检流计指针不偏转，即电路中没有电流时，两个电源的电动势大小相等，互相补偿，即 E<sub>x</sub> = E<sub>0</sub>，电路达到平衡。</p>  <p>3-10-2 补偿原理</p> <p>(2) 电位差计测量电动势 (方法)</p> <p>由电源 E、开关 K、变阻器 R<sub>c</sub> 精密电阻 R<sub>AB</sub> 和毫安表组成的回路叫工作回路。由 R<sub>AB</sub> 上有压降，当改变 a<sub>0</sub>、b<sub>0</sub> 两触头的位置，就改变 a<sub>0</sub>、b<sub>0</sub> 间的电位差 U<sub>a<sub>0</sub>b<sub>0</sub></sub>，就相当于可调电动势 E<sub>0</sub>。测量时把 U<sub>a<sub>0</sub>b<sub>0</sub></sub> 引出与未知电动势 E<sub>x</sub> 比较。由 E<sub>x</sub>、K<sub>x</sub> 和 R<sub>axbx</sub> 组成的回路叫测量回路。调节 R<sub>c</sub> 的大小，使工作回路中电流值 I<sub>0</sub> 和 R<sub>AB</sub> 的乘积 I<sub>0</sub>R<sub>AB</sub> 略大于 E<sub>s</sub> 和 E<sub>x</sub> 二者中大的一个。</p>  <p>3-10-3 电位差计原理图</p>		
实验装置	11 线式电位差计、ZX-21 型电阻箱、晶体管直流稳压电源、单刀开关、毫安表、双刀双掷开关、标准电池、待测电池、带保护电阻 R <sub>1</sub> 的开关、检流计各 1 只，UJ37 箱式电位差计 1 台，待测电压源 1 只。		
实验准备	仔细检查稳压电源、标准电池、待测电池，待测电压源的状况。		
实验步骤	<p>(1) 用线式电位差计测电池电动势</p> <p>① 联结线路</p> <p>按书中图 3-10-4 联电路，先联接工作回路，后联接测量回路。正确联接测量回路的关键是正确联双刀双掷开关 K<sub>2</sub>。</p>		

实验步骤

②测量

(a) 调节  $R_C$  使  $U_{AB} \geq E_X$ ,  $l_0$  值调好后不许再变。

(b) 将  $K_2$  掷向  $E_S$  一侧, 将滑动触头从 1 逐一碰试, 直到碰相邻插孔时检流计指针向不同方向摆动或指零, 将 a 插入较小读数插孔, 移动 b' 使检流计指零。最后合上  $K_3$ 。

(c) 将  $K_2$  掷向  $E_X$ , 重复步骤 (b)。

(2) UJ37 箱式电位差计的校准和使用

UJ37 箱式电位计测量范围为 1~103mV, 准确度级别 0.1 级, 工作温度范围  $5^\circ\text{C} \sim 45^\circ\text{C}$ 。

①校准

先把检流计机械调零。把四刀双掷扳键 D 扳向“标准”, 调节工作电流直至检流计指零点。

②测量

校准完后, 把待测电压接入未知, 将未知电压开关扳向“ON”。先粗调, 后细调。

数据处理

次	$L_S / \text{m}$	$L_X / \text{m}$
1	$L_{S左} = 4.6686$	$L_{X左} = 9.5350$
	$L_{S右} = 4.6690$	$L_{X右} = 9.5352$
	$L_{S1} = 4.6688$	$L_{X1} = 9.5351$
2	$L_{S左} = 4.6689$	$L_{X左} = 9.5358$
	$L_{S右} = 4.6691$	$L_{X右} = 9.5360$
	$L_{S2} = 4.6690$	$L_{X2} = 9.5359$
3	$L_{S左} = 4.6688$	$L_{X左} = 9.5355$
	$L_{S右} = 4.6673$	$L_{X右} = 9.5362$
	$L_{S3} = 4.6681$	$L_{X3} = 9.5359$
4	$L_{S左} = 4.6687$	$L_{X左} = 9.5364$
	$L_{S右} = 4.6691$	$L_{X右} = 9.5370$
	$L_{S4} = 4.6689$	$L_{X4} = 9.5367$
5	$L_{S左} = 4.6684$	$L_{X左} = 9.5360$
	$L_{S右} = 4.6692$	$L_{X右} = 9.5370$
	$L_{S5} = 4.6688$	$L_{X5} = 9.5365$
6	$L_{S左} = 4.6686$	$L_{X左} = 9.5378$
	$L_{S右} = 4.6690$	$L_{X右} = 9.5385$
	$L_{S6} = 4.6688$	$L_{X6} = 9.5382$
平均值	$\overline{L_S} = 4.6687$	$\overline{L_X} = 9.5364$

$$E_x = \frac{\overline{L_x}}{\overline{L_s}} E_S = 3.2004\text{V}$$

(1) 计算未知电动势  $E_x$  的平均值

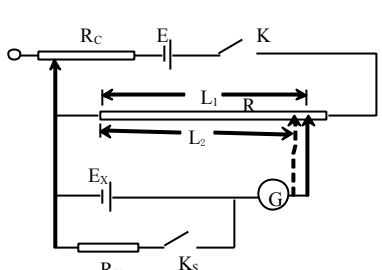
$$E_x = \frac{\overline{L_x}}{\overline{L_s}} E_S = 3.2004\text{V}$$

(2) 计算未知电动势  $E_x$  的不确定度 U

① 计算直接测量量  $L_s$  的标准不确定度  $u(L_s)$

$$u_A(L_S) = \sqrt{\frac{\sum(L_{Si} - \overline{L_S})^2}{n(n-1)}} = 0.3\text{mm}; \quad u_B(L_S) = 8\text{mm};$$



<p style="text-align: center;">数据 处 理</p>	$u_A(L_S) = \sqrt{\frac{\sum(L_{Si} - \bar{L}_S)^2}{n(n-1)}} = 0.3\text{mm}; \quad u_B(L_S) = 8\text{mm};$ $u(L_S) = \sqrt{u_A^2(L_S) + u_B^2(L_S)} = 8.0056\text{mm}。$ <p>② 计算直接测量量的 <math>L_x</math> 的标准不确定度 <math>u(L_x)</math></p> $u_A(L_x) = \sqrt{\frac{\sum(L_{xi} - \bar{L}_x)^2}{n(n-1)}} = 1.1\text{mm}; \quad u_B(L_x) = 12\text{mm};$ $u(L_x) = \sqrt{u_A^2(L_x) + u_B^2(L_x)} = 12.05\text{mm}。$ <p>③ <math>E_s</math> 的标准不确定度</p> $u(E_S) = u_B(E_S) = \frac{\Delta_{\text{允}}}{\sqrt{3}} = 0.002\text{V}。$ <p>④ 间接测量量 <math>E_x</math> 的标准不确定度 <math>u_c(E_x)</math></p> $u_{\text{crel}}(E_x) = 0.38\%;$ $E_x \text{ 的合成标准不确定度 } u_c(E_x) = u_{\text{crel}}(E_x)E_x = 0.012\text{V}。$ <p>⑤ <math>E_x</math> 的扩展不确定度</p> <p>取包含因子 <math>k=2</math>, <math>E_x</math> 的扩展不确定度 <math>U</math> 为</p> $U = ku_c(E_x) = 2u_c(E_x) = 0.024\text{V}。$ <p>(3) 结果表达式</p> $E_x = (\bar{E}_x + U)\text{V} = (3.20 \pm 0.02)\text{V}; k=2$	
<p style="text-align: center;">思 考 题</p>	<p>(1) 按图3-10-4联好电路做实验时, 有时不管如何调动a头和b头, 检流计G的指针总指零, 或总不指零, 两种情况的可能原因各有哪些?</p> <p>(2) 用电位差计可以测定电池的内阻, 其电路如图3-10-6所示, 假定工作电池 <math>E &gt; E_x</math>, 测试过程中 <math>R_c</math> 调好后不再变动, <math>R_x</math> 是个准确度很高的电阻箱。R 是一根均匀的电阻丝。L<sub>1</sub>、L<sub>2</sub> 分别为 <math>K_x</math> 断开和接通时电位差计处于补偿状态时电阻丝的长度。试证明电池 <math>E_x</math> 的内阻 <math>r = \frac{L_1 - L_2}{L_2} R_x</math> (<math>R_x</math> 为已知)。</p>	 <p style="text-align: center;">图 3-10-6 思考题 2 附图</p>

1. 按图 3-10-4 联好电路做实验时, 有时不管如何调动 a 头和 b 头, 检流计 G 的指针总指零, 或总不指零, 两种情况的可能原因各有哪些? 答: 总指零的原因: 测量回路断路。总不指零的原因: ① E 和  $E_x$  极性不对; ② 工作回路断路; ③  $R_{AB}$  上的全部电压降小于  $E_s$ ,  $E_x$  二者中小的一个。

2. 用电位差计可以测定电池的内阻, 其电路如图 3-10-6 所示, 假定工作电池  $E > E_x$ , 测试过程中  $R_c$  调好后不再变动,  $R_x$  是个准确度很高的电阻箱。R 是一根均匀的电阻丝。L<sub>1</sub>、L<sub>2</sub> 分别为  $K_x$  断开和接通时电位差计处于补偿状态时电阻丝的长度。试证明电池  $E_x$  的内阻  $r = [(L_1 - L_2)/L_2] R_x$  ( $R_x$  为已知)。

证明: 设 A 为 R 上单位长度的电位差,  $V_x$  为  $K_2$  的端电压, 则有:  $E_x = AL_1$  (1)  $V_x = AL_2$

(2)

而  $V_x = E_x - Ir = E_x - \frac{R_x}{r + R_x} E_x$  代入 (2) 式得:

$$Rx / (r + Rx) Ex = AL_2 \quad (3)$$

(1) 式除(3)式, 整理后得:  $r = [(L_1 - L_2) / L_2] R_x$

4. 如图 3-10-4 所示的电位差计, 由 A 到 B 是 11m 长的电阻丝, 若设  $a=0.1V/m$ , 11m 长的电压降是 1.1V, 用它测仅几毫伏的温差电动势, 误差太大。为了减少误差, 采用图 3-10-8 所示电路。图 3-10-8 是将 11m 长的电阻丝 AB 上串接了两个较大的电阻  $R_1$  和  $R_2$ 。若 AB 的总电阻已知为  $r$ , 且  $R_1$ 、 $R_2$ 、 $r$  上的总电压为 1.1V, 并设计 AB(11m) 电阻丝上的  $a=0.1mV/m$ , 试问  $R_1+R_2$  的电阻值应取多少? 若标准电池  $E_0$  的电动势为 1.0186V, 则  $R_1$  可取的最大值和最小值分别为多少(用线电阻  $r$  表示)? 答: ① 由于电位差计单位长度电阻线的电位差为  $a$ , 则电阻线 AB 上的电位差  $V_{AB}=11a=1.1mV$ , 而回路电流应为  $I=V_{AB}/r$ 。另一方面, 由于  $I(R_1+R_2+r)=1.1V$ , 所以  $(V_{AB}/r)(R_1+R_2+r)=1.1V$ , 即  $V_{AB}[(R_1+R_2)/r+1]=1.1V$ 。所以  $R_1+R_2=[(1.1/V_{AB})-1]r=(1.1/0.0011-1)r=999r$ 。② 当  $R_2 I = E_0$  时,  $R_1$  为最小, 即  $R_1 = R_{1min}$ , 此时有  $R_1 I + E_0 + Ir = 1.1$ 。由于  $I = V_{AB}/r = 0.0011/r$ , 所以  $R_{1min} = (1.1 - E_0 - Ir) / I = 73r$ 。当  $R_2 I + Ir = E_0$  则  $R_1$  为最大, 即  $R_1 = R_{1max}$ , 此时有  $R_1 I + E_0 = 1.1$ 。所以  $R_{1max} = (1.1 - E_0) / I = 74r$

实验名称	用惠斯通电桥测电阻		实验编号	0801009
			实验课时	3
类别	必修 (√) 限选 ( ) 任选 ( )	类型	演示、验证 ( ) 综合、设计 (√)	
辅助教师			职称	
授课对象	全校工科本科生、专科生			
教材讲义	王宏波等. 大学物理实验(上). 东北林业大学出版社, 2004			
实验内容 (教学过程)				备注
实验目的	(1) 掌握用惠斯通电桥测电阻的原理 (2) 正确应用复射式光点检流计 (3) 学会用QJ19型箱式电桥测电阻			
实验方法原理	应用自组电桥和箱式电桥两种方法来测未知电阻 $R_x$ 。 其原理如图示, 其中 $R_1$ 、 $R_2$ 、 $R_3$ 是三个已知电阻与未知电阻 $R_x$ 构成四个臂, 调节 $R_3$ , 当 $U_{cd}=0$ 时电桥平衡。即 $I_1 R_1 = I_2 R_2$ , $I_1 R_x = I_2 R_3 \quad \therefore R_x = \frac{R_1}{R_2} R_3$ 。			 <p>图 3-9-1 电桥原理图</p>
实验装置	直流稳压电源、复射式光点检流计、QJ19型箱式电桥、指针式检流计			
实验准备	电阻箱 3 个、待测电阻 2 个、导线若干条			
实验步骤	(1) 自组电桥: ① 按图 3-9-1 连接电路, 根据被测阻值范围恰当选择比例臂(在电阻箱上), 判断平衡指示仪用指针式检流计。 ② 调整测定臂 $R_3$ 使其平衡, 记下各臂阻值. 逐一测得 $R_{X1}$ 、 $R_{X2}$ 、 $R_{X串}$ 、 $R_{X并}$ 。 (2) 箱式电桥: ① (按图 3-9-3 或箱式电桥仪器铭牌右上角的线路图接线, 平衡指示仪用复射式光点检流计。 ② 参照书 P <sub>95</sub> 页表格选取 $R_1$ 、 $R_2$ 两臂和电源电压, 参照自组桥测试结果选取 $R_3$ 的初始值。 ③ 对每个被测电阻通过不同的灵敏度分别进行粗细调平衡, 并记录相应阻值。			

	自组点桥数据				箱式电桥数据				
	$R_{X1}$	$R_{X2}$	$R_{X串}$	$R_{X并}$		$R_{X1}$	$R_{X2}$	$R_{X串}$	$R_{X并}$
$R_1/\Omega$	1500	3000	5000	1000	R1/R2	10	10	10	10
$R_2/\Omega$	1500	3000	5000	1000	$R_3/\Omega$	146.60	358.51	506.42	104.21
$R_3/\Omega$	1475.2	3592.0	5069.0	1042.8	$R_x/\Omega$	1466.0	3585.1	5064.2	1042.1
$R_x/\Omega$	1475.2	3592.0	5069.0	1042.8					

数据处理:

(1) 自组电桥( $a=0.1$ 级) 由 $\Delta R=\sqrt{3}Ra/100$  而  $U_{0.95}=0.95\Delta R$   
得:  $U_1=0.95\times\sqrt{3}\times1475.20.1\div100=2\Omega$   
 $U_2=0.95\times\sqrt{3}\times3592.0\times0.1/100=6\Omega$   
 $U_3=0.95\times\sqrt{3}\times5069.0\times0.1/100=8\Omega$   
 $U_4=0.95\times\sqrt{3}\times1042.8\times0.1/100=2\Omega$   
测量结果:  $R_1=(1475\pm2)\Omega$   $R_2=(3592\pm6)\Omega$   
 $R_3=(5069\pm8)\Omega$   $R_4=(1043\pm2)\Omega$

(2) 箱式电桥 ( $a=0.05$ 级) 由 $\Delta R=\pm a/100\%(kR_3+R_N/10)$ ,  
又  $U_{0.95}=0.95\Delta R$   
得:  $U=0.95\times0.05/100\times(10R_3+1000/10)$   
 $\therefore U_1=0.95\times0.05/100\times(10\times146.60+100)=0.7\Omega$   
 $U_2=0.95\times0.05/100\times(10\times358.51+100)=2\Omega$   
 $U_3=0.95\times0.05/100\times(10\times506.42+100)=2\Omega$   
 $U_4=0.95\times0.05/100\times(10\times104.21+100)=0.5\Omega$   
测量结果:  $R_1=(1466.0\pm0.7)\Omega$   $R_2=(3585\pm2)\Omega$   
 $R_3=(5064\pm2)\Omega$   $R_4=(1042.1\pm0.5)\Omega$

数据处理

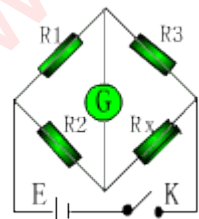
思考题

- (1) 电桥一般有两个比例臂  $R_1$ 、 $R_2$ ，一个测定臂  $R_3$  和另一个待测电阻  $R_x$  组成。电桥的平衡条件是  $R_x=(R_1/R_2)R_3$ 。
- (2) 不能平衡，因为桥臂两端 C 和 D 两点电位不会相等。
- (3) ①不会，因为被测阻值仅仅依赖于  $R_1$ 、 $R_2$ 、 $R_3$  三个阻值。  
②会，因为要由检流计判断是否平衡。  
③不会，因为检流计分度值不影响电桥误差。  
④会，因为电压太低会降低电桥的灵敏度，从而增大误差。  
⑤会，因为除了  $R_1$ 、 $R_2$ 、 $R_3$  三个电阻外，还有导线电阻。
- (4) 由被测阻值大约为  $1.2k\Omega$ ，应考虑电源电压及倍率。电源电压选择  $6V$ ，倍率  $R1/R2=1$ ，因为当电桥的四个臂接近时电桥有较高的灵敏度。

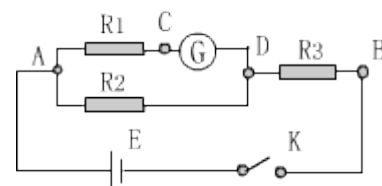
1.电桥由哪几部分组成？电桥的平衡条件是什么？

答：由电源、开关、检流计桥臂电阻组成。

平衡条件是  $R_x=(R_1/R_2)R_3$



2. 若待测电阻  $R_x$  的一个头没接(或断头)，电桥是否能调平衡?为什么?答：不能， $R_x$  没接(或断头)，电路将变为右图所示，A、C 及 C、D 间总有电流，所以电桥不能调平。



3. 下列因素是否会使电桥误差增大?为什么?(1) 电源电压不太稳定；由于电桥调平以后与电源电压无关，则电源电压不太稳定基本不会使电桥误差增大。

(2) 检流计没有调好零点；若检流计没有调好零点，当其指针指零时检流计中电流不为零，即电桥没有达到平衡正态，此时的测量读数中将会含有较大误差甚至会出现错误读数；

(3) 检流计分度值大；检流计分度值大时会使电桥误差增大，因电桥的灵敏度与分度值成反比；

(4) 电源电压太低；电源电压太低会使电桥误差增大，因电桥的灵敏度与电源电压成正比；

(5) 导线电阻不能完全忽略；对高电阻不会，当被测电阻的阻值很高时导线电阻可以忽略。

4. 为了能更好地测准电阻，在自组电桥时，假如要测一个约  $1.2\text{k}\Omega$  的电阻，应该考虑哪些因素?这些因素如何选取? 答：应考虑电源电压，比例臂的电阻值，检流计的分度值。电源电压取  $6\text{V}$ ， $R_1$ 、 $R_2$  取  $1000\Omega$ ，检流计取  $1.5$  级  $\mu\text{A}$  表。