

南京市六校联合体 2018 级高一年级期中联考试卷

历史试题

一、单项选择题(共 30 题, 每题 2 分, 共 60 分, 请用 2B 铅笔将答案填涂在答题卡上)

1. 右图为“许”姓图腾, “以国为氏”。《通志·氏族略》记载: 周武王克商后, 封伯夷的后人文叔于许国, 称为许文叔。与许姓起源有关的制度是



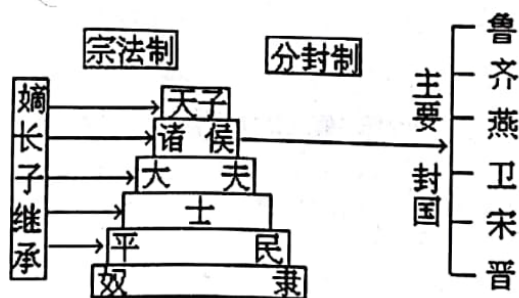
- A. 宗法制
- B. 分封制
- C. 礼乐制
- D. 行省制

2. 下图是一张拍摄于清末和 21 世纪的中国家庭聚餐照。它反映了中国已经延续了数千年的“团圆饭”情结。这种情结与下列哪一制度有关



- A. 禅让制
- B. 宗法制
- C. 分封制
- D. 礼乐制

3. 下图是宗法制与分封制的关系示意图, 以下选项是关于分封制与宗法制关系的说明, 其中最为适当的是



- A. 周天子为晋国大宗, 晋国内部再分封诸国也以周天子为大宗
 - B. 齐国国君是齐国内部诸国的大宗, 周天子则为其小宗
 - C. 周天子是包括鲁国在内各封国的大宗, 燕国国君则是燕国内部诸国的大宗
 - D. 周天子为一族, 燕国另为一族, 在宗法上, 二者并无关系
4. “(中国政制) 达臻‘文明’一途, 实因归功于西周的创制……, 西周政治里显然有深厚的贵族色彩, 而‘共主’名义下的地方分权体制……与秦以后一统的君主‘独制’格局泾渭分明。”(王家范《中国历史通论》) 下列对材料的解读, 不正确的是

- A. “西周的创制”主要指实行分封制



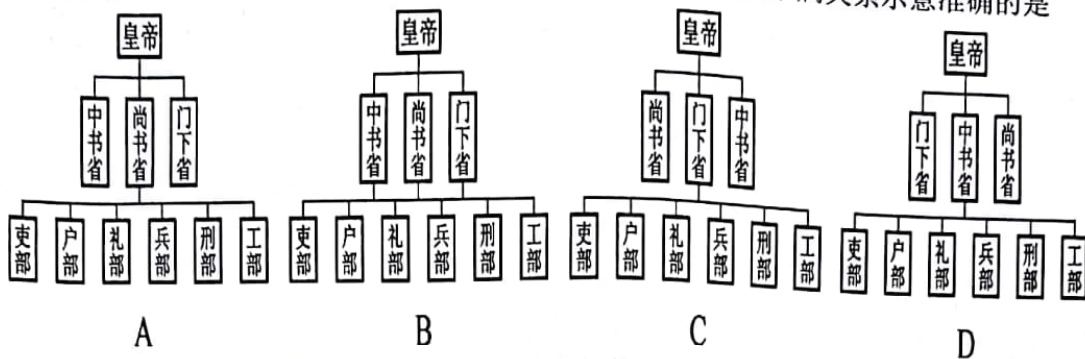
- B. 以血缘关系为纽带保持“贵族色彩”
 C. “共主”指西周实现了权力的高度集中
 D. “地方分权体制”指地方有较大自主权
5. 《史记·秦始皇本纪》载“始皇帝幸梁山宫，从山上见丞相车骑众，弗善也。中人或告丞相。丞相后损车骑。始皇怒曰：‘此中人泄吾语。’案问莫服。当是时，诏捕诸时在旁者皆杀之。”秦始皇此举的主要意图是
 A. 建立保密制度
 B. 震慑谋反之徒
 C. 维护皇帝权威
 D. 削弱丞相权力
6. 元朝人胡三省说：“秦置御史，掌讨奸猾，治大狱，御史大夫统之。”他认为御史大夫的重要职责是
 A. 执掌奏章，下达诏令
 B. 统领百官，处理政事
 C. 监察官员，审理大案
 D. 草拟诏书，审议执行
7. 著名学者王亚南在分析了秦王朝的各项政治制度后指出，“其中最基本的措施，则是‘天下皆为郡县，子弟无尺土之封’。因为有了这一项根本规定，任何贵族就没有‘食土子民’的权能”。材料表明秦朝实施郡县制度的根本目的是
 A. 创新地方行政管理体制
 B. 打击贵族势力
 C. 使奴隶获得了人身自由
 D. 加强中央集权
8. 下图是我国某一时期的部分行政区域图，该时期是



- A. 汉
 B. 秦
 C. 唐
 D. 宋
9. 右图是我国某一时期的部分行政区域图，这一时期管理 A 区域的机构是
 A. 宣政院
 B. 中书省
 C. 行中书省
 D. 枢密院
10. “显而易见的是……改变了传统选官制度中自下而上，权力下移的性质。再同以往的选官制度相比，它是一种由中央确定标准、决定取舍的自上而下的选官方式。”材料中省略处应为
 A. 世卿世禄制
 B. 察举制
 C. 九品中正制
 D. 科举制



11. 下列为唐朝三省六部制机构设置示意图，其中部门之间隶属关系示意准确的是



12. 中国古代历史上，君权与相权是一对矛盾的统一体。下列选项中，体现封建君主直接削弱宰相权力的措施有

- ①秦朝设置御史大夫 ②唐朝实行三省制 ③元朝实施行省制 ④明朝设立内阁
 A. ①②③④ B. ②③④ C. ①③④ D. ①②

13. 明朝嘉靖万历时，内阁权压六卿……对于军国大事无所不掌，刑名钱谷无所不问，内阁无疑是操有宰相之权。可见，当时的内阁

- A. 已成法定机构 B. 开始统领六部 C. 握有军政大权 D. 严重威胁皇权

14. 清末御史张瑞荫的一份奏折中说：“自设军机处，名臣贤相不胜指屈，类皆小心敬慎，奉公守法。其弊不过有庸臣，断不至有权臣，……军机处虽为政府，其权属于君；若内阁，则权属于臣。”这说明军机处

- A. 树立了官场廉政之风 B. 强化了君主专制
 C. 削弱了内阁的权力 D. 扩大了统治基础

15. 钱乘旦在《世界近现代史的主线是现代化》中指出英国“当转型的准备工作完成后，现代化的第一步是在政治领域首先迈出的，这就标志着现代化的开始。……一个人的绝对权力阻碍了国家的发展，不限制这种权力，国家便无法进步。”符合该观点的表述是

- A. 通过《权利法案》 B. 责任内阁制形成
 C. 君主“统而不治” D. 1832年议会改革

16. 根据“光荣革命”后建立的政治制度，英国由少数贵族掌管政权。……这种制度能够保证工业革命顺利发生，但是当工业革命发生后，它又成为陈旧的制度，必然被工业化社会所淘汰。“陈旧的制度”被淘汰是通过

- A. 《权利法案》颁布 B. 责任内阁制形成
 C. 1832年议会改革 D. 两党制度的确立

17. 2016年6月英国全民公投脱离欧盟，英国最高法院后裁定，英国政府在正式启动“脱欧”程序前需经议会批准，英国政府发表声明称，对此裁决“感到失望”，并宣布将向英国最高法院上诉。2017年1月，英国最高法院就“脱欧”问题做出终审裁决，强调政府启动“脱欧”程序必须经议会投票批准。据此可知英国

- A. 责任内阁制开始形成 B. 首相由议会选举产生
 C. 国家元首“统而不治” D. 政府权力受议会制约

18. 2012年11月7日，美国当选总统奥巴马宣誓就任美国第45任总统，他在美国最高法院首席大法官的见证下庄严宣誓。誓词大意为：“我郑重宣誓，我将忠实履行美国总



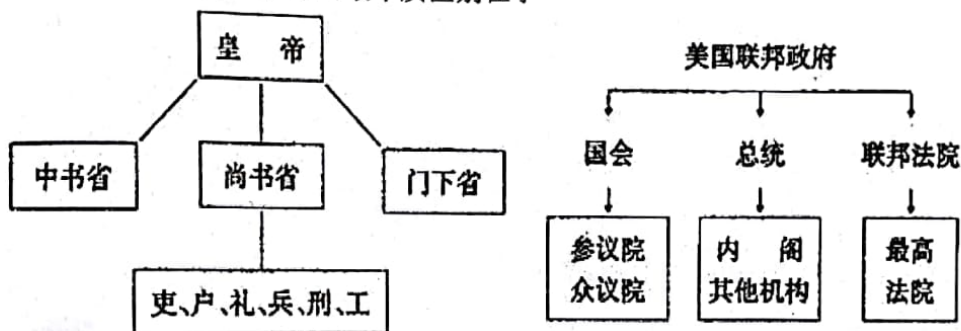
统职责，尽己所能保存、保护和捍卫美国宪法……”下列关于美国总统的职责与美国宪法内容的叙述，不符合历史事实的是

- A. 美国中央政府的构建体现了三权分立的原则，总统对立法没有否决权
- B. 最高行政权属于总统，总统兼武装部队总司令
- C. 美国 1787 年联邦宪法是世界上第一部成文宪法，体现了“制约与平衡”的原则
- D. 按照宪法规定，美国的最高立法机构是国会

19. 美国国土安全部 2017 年 2 月 4 日发布声明称，根据美国华盛顿州西区联邦地方法院法官詹姆斯·罗巴特 3 日作出的裁决，在全美范围内暂停实施特朗普颁布的限制难民等群体入境的行政令。国土安全部将恢复此前对待入境旅客的检查方式。据此可知美国

- A. 司法权高于行政权
- B. 总统需要对联邦法院负责
- C. 地方权力高于中央
- D. 总统权力受到联邦法院制约

20. 比较下列两图，两种制度的最本质区别在于



- A. 左图反映了中国的民主，右图反映了美国的民主
- B. 左图反映了封建社会的民主，右图反映了资本主义社会的民主
- C. 左图反映了封建君主专制，右图反映了资产阶级民主政治
- D. 左图的官员都是任命的，右图的官员都是民选的

21. 马克思在评论鸦片战争时说：“在这场决斗中，陈腐世界的代表是激于道义，而最现代的社会代表却是为了获得贱买贵卖的特权——这真是任何诗人想也不敢想的一种奇异的对联式悲歌。”据此，下列表述正确的是

- A. “陈腐世界的代表”是指固守旧制度的清政府
- B. “贱买贵卖的特权”说明英国侵华与鸦片无关
- C. “对联式悲歌”是指中英两国在战争中两败俱伤
- D. “最现代的社会代表”体现出人类的正义和道德

22. 右图为中国国宝圆明园鼠首和兔首。据香港《星岛日报》报道，法国佳士得拍卖行公开拍卖当年从北京圆明园掠走的十二生肖青铜兽首像中的鼠首和兔首，引发中国抗议，轰动全球。文中“当年从北京圆明园掠走”与哪一事件相关

- A. 鸦片战争
- B. 第二次鸦片战争
- C. 甲午战争
- D. 八国联军侵华战争



23. 徐中约《中国近代史》载：“他们于 1855 年 4 月第三次攻取武汉，并席卷湖北和江西，将曾国藩困在江西境内。……整个长江流域都落入了革命军之手，命运真是太照顾西，将曾国藩困在江西境内。……整个长江流域都落入了革命军之手，命运真是太照顾西，将曾国藩困在江西境内。”



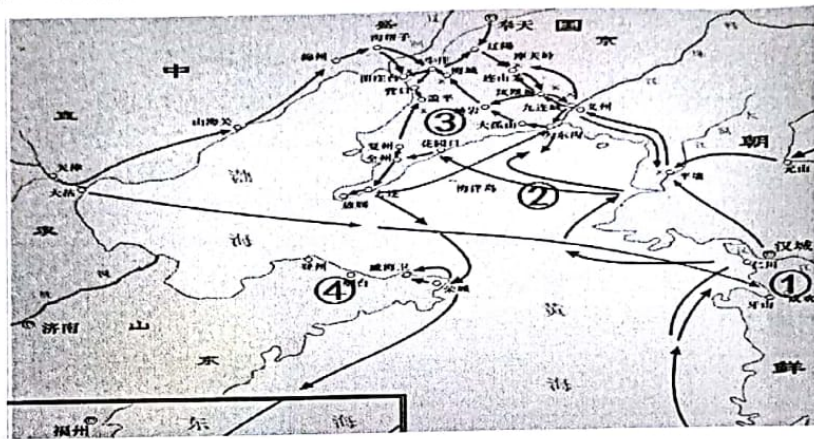
他们了。”材料评述的是太平天国运动中的

- A. 金田起义 B. 北伐 C. 定都天京 D. 西征

24. 某专家在评价太平天国运动时说：“(缔造者们)言辞的崇高……平等的许诺……越来越使渴望解脱重重压迫的贫民失望。”下列最有可能导致“贫民失望”的是

- A. 金田起义仓促举事 B. 《天朝田亩制度》流于空想
C. 定都天京斗志松懈 D. 《资政新篇》因故未能实行

25. 史学家唐德刚说，这次战役“从全盘战局看，日本联合舰队虽没有达成‘聚歼’中国北洋舰队的目的，却为下一步实施登陆辽东半岛创造了条件”。此战位于下图中的



- A. ① B. ② C. ③ D. ④

26. “此次(占领北京与上次)大为不同，为时长达十三个月，采取报复性的、有系统的枪杀。”日本人植松良二现场报道说：“街市毁失十分之二三，妇女任人凌辱。联军将校率军士，公然大肆抢夺。金银珠玉自不必言，此外书画、古董……所获均属不少。……城中各处朝衣朝冠之男尸，凤冠霞帔、补服、红裙之女尸，触目皆是。”此处描述的战争是

- A. 鸦片战争 B. 第二次鸦片战争
C. 甲午中日战争 D. 八国联军侵华战争


27. “第十一条 参议院对于临时大总统认为有谋叛行为时，得以总员五分之四以上出席，出席员四分之三以上可决弹劾之。……第三十条 临时大总统代表临时政府，总揽政务，公布法律。……第四十五条 国务员于临时大总统提出法律案公布法律及发布命令时须副署之。”上述条款出自



A



B



C



D



28. 右侧漫画创作于 20 世纪前期中国社会急剧动荡的环境里。从当时的社会背景看，这幅作品主要反映作者的政治立场是



- A. 对五四运动爆发的漠然
- B. 对袁世凯就任临时大总统的不满
- C. 对新文化运动的支持
- D. 对巴黎和会中国外交失败的愤慨

29. 费正清说：“这是一个大约 12 个二十几岁年轻人参加的会议。会议是在上海法租界的一所女子学校（暑假放假）里召开的，成员们担心巡捕的监视，乘火车转移到（嘉兴南湖）湖上的一所游艇中继续讨论。”材料中所说的会议

- A. 标志着国共两党合作的形成
- B. 使得中国革命面貌焕然一新
- C. 成为中共历史上重要的转折点
- D. 给思想紊乱的中共指明了方向

30. 右图邮票纪念的历史事件



中国工农红军长征胜利八十周年·遵义会议

- A. 确立了武装反抗反动派的总方针
- B. 标志着红军战略转移的胜利完成
- C. 红军从此摆脱了国民党军的围堵
- D. 事实上确立了毛泽东的领导地位

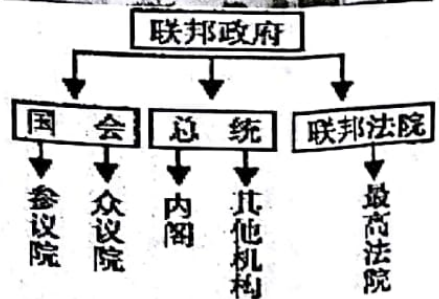
二、判断题：判断正误，并在相应的方框内填涂，正确的涂 A，错误的涂 B。（本大题共 5 题，每小题 2 分，共 10 分）

31. 右图是南京名胜半山园，历史上曾是王安石的宅邸。王安石担任过北宋参知政事一职，该职位的设立是为了分割宰相的财政权。



32. 隋唐时期的三省六部制体现了中央集权下分权与制衡理念的政治实践，是古代政治制度的重大创新。

33. 历史老师在讲述美国联邦机构的权力结构时，绘制了右侧的图示。某同学作了如下解释：最高行政权归总统，总统对国会负责；国会是最立法机构；最高法院拥有司法权，大法官由国会任命。



34. 辛亥革命推翻了清王朝，结束了中国两千多年的封建君主专制制度，建立起资产阶级共和国，使人民获得了一些民主和自由的权利。

35. 武昌起义打响了资产阶级革命派反抗清朝专制统治的第一枪；南昌起义则打响了中国共产党武装反抗国民党反动统治的第一枪。



三、材料解析题：结合材料以及所学知识回答问题（本部分共2题，每题10分，共20分）。

36. 妥协是政治的艺术，是西方民主政治得以确立和发展的一种手段。阅读下列材料：

材料一：这两者的关系不调解好，英国将永远在痉挛中震颤。终于，这个关系由“光荣革命”调解好了，不过，这一次没有用对抗的手段，而是用融合的手段……在融合中产生出崭新的制度……在此后三百年中，英国再也没有发生过重大的社会动荡，取得了惊人的进步。

——钱乘旦、陈晓律《在传统与变革之间——英国文化模式溯源》

材料二：美国宪法是美国建国初期多元利益集团（群体）谈判和妥协的结果，宪法所创立的也是一个利益谈判和妥协的政治机制。在美国两百多年的历史中，不同的利益集团因应对不断变化的历史环境，利用依宪法衍生的宪政机制，就各自的利益和联邦的“公共”利益的定义和定位，相互进行一种连续不停的谈判和妥协。谈判和妥协使旧的宪法原则和实践得以修正，使新的宪法原则和实践得以产生，宪法的生命力不断得到更新，表现出一种“超稳定性”，成为一部“活着的宪法”。

——王希《原则与妥协：美国宪法的精神与实践》

请回答：

(1) 根据材料一并结合所学知识，指出材料一中的“两者”“融合的手段”及“崭新制度”分别指的是什么？（4分）

(2) 据材料二说明为什么美国宪法能成为一部“活着的宪法”？（2分）结合所学知识指出，根据美国宪法，美国在协调中央与地方关系方面实行了什么制度？（1分）该制度的实行有何意义？（2分）

(3) 综合上述材料，谈谈你对妥协与民主政治关系的认识。（1分）

37. 自近代以来，中华民族屡屡遭受列强的侵略，抗击外来侵略、实现救亡图存成为中国近代史的重要主题。阅读下列材料：

材料一：自今以来，大皇帝恩准英国人民带同所属家眷，寄居大清沿海之广州、福州、厦门、宁波、上海等五处港口，贸易通商无碍。

材料二：慈禧太后垂帘听政以来，重用宦官，偏听偏信，政治腐败、经济腐败加上吏治腐败，使国运岌岌可危。李鸿章奉命创建海军，建设国防力量，虽学习西方之经验，但只学其表皮，未触实质。而慈禧太后竟将海军之大量军费挪用，作为修建三海及颐和



园之用款。……自光绪十五年至甲午中日战争六年间（1889年～1894年），竟然只舰未添。原来清政府的海军位居亚洲第一、世界前列，此时已被日本赶超……日本几乎所有主力舰船都已安装速射炮。

——罗援《甲午战争惨败的十大教训》

材料三：民国三年，戴季陶遇见一个老农，因戴氏身着日本服装，老农遂问其国籍。戴称“予中华民国人也”。老农“忽作惊状，似乎不解中华民国为何物者”。当戴氏告诉老农“你也是中华民国人”时，老农茫然恍然，连声说：“我非革命党，我非中华民国人。”

——唐文权、桑兵：《戴季陶集》

请回答：

（1）结合所学知识，指出材料一出自于哪场战争中的哪个条约？（2分）19世纪中期另外一件与南京有关的重大历史事件是什么？（1分）

（2）根据材料二概括中国在甲午中日战争中战败的原因。（3分）结合所学知识简要指出这场战争对中国造成的主要危害。（1分）

（3）请分别指出教材（课本）和材料三各是如何评价辛亥革命在思想领域的影响的？（2分）结合所学知识指出辛亥革命的性质。（1分）

四、问答题：根据设问，回答问题（本部分1题，共10分）。

38. 古代中国形成了具有中国特色的政治文明体系。结合所学知识，回答下列问题：

（1）为了加强君主专制，唐朝、明朝和清朝分别采取了怎样的措施？（4分）

（2）在地方管理方面，汉初、秦朝和元朝分别实行了什么制度？（3分）

（3）在人才选拔方面，隋唐以来形成和发展了怎样的制度，这一制度有何意义？（3分）

