

1. $29+32+19=$

2. $70-23-38=$

3. $13+34+45=$

答案：

1. $29+32+19=80$

$$\begin{array}{r} 29 \\ + 32 \\ \hline 61 \\ + 19 \\ \hline 80 \end{array}$$

2. $70-23-38=9$

$$\begin{array}{r} 70 \\ - 23 \\ \hline 47 \\ - 38 \\ \hline 9 \end{array}$$

3. $13+34+45=80$

$$\begin{array}{r} 13 \\ + 34 \\ \hline 47 \\ + 45 \\ \hline 92 \end{array}$$

1. $44+33-55=$

2. $97-39+27=$

3. $52-12+8=$

答案：

1. $44+33-55= 22$

$$\begin{array}{r} 44 \\ + 33 \\ \hline 77 \\ - 55 \\ \hline 22 \end{array}$$

2. $97-39+27= 95$

$$\begin{array}{r} 97 \\ - 39 \\ \hline 58 \\ + 27 \\ \hline 95 \end{array}$$

3. $52-12+8=48$

$$\begin{array}{r} 52 \\ - 12 \\ \hline 40 \\ + 8 \\ \hline 48 \end{array}$$

1. 比 25 多 17 的数是 ()。
比 31 少 3 的数是 ()。
比 37 多 7 的数是 ()，少 7 的数是 ()。

2. $52+29-75=$

3. $70-62+15=$

答案：

1. 42 28 44 30

2. $52+29-75= 6$

$$\begin{array}{r} 52 \\ + 29 \\ \hline \end{array}$$

$$81$$

$$\begin{array}{r} 81 \\ - 75 \\ \hline \end{array}$$

$$6$$

3. $70-62+15=23$

$$70$$

$$\begin{array}{r} 70 \\ - 62 \\ \hline \end{array}$$

$$8$$

$$\begin{array}{r} + 1 \quad 5 \\ \hline 2 \quad 3 \end{array}$$

1. 小明有花 45 朵，小红有花 37 朵，小明比小红多多少朵？
2. 小明有花 45 朵，小红有花 37 朵，小红再添几朵花就和小明同样多了？
3. 小明有花 45 朵，小红有花 37 朵，小明给小红几朵两人同样多？

答案：

1. $45-37=8$ （朵）

答：小明比小红多 8 朵。

2. $45-37=8$ （朵）

答：小红再添 8 朵花就和小明同样多了。

3. $45-37=8$ （朵）

$8-4=4$ （朵）

答：小明给小红 4 朵两人同样多。

1. 看图填空。

☆ ☆ ☆ ☆ ☆ ☆

○ ○ ○ ○ ○ ○ ○ ○ ○ ○

①○比☆多（ ）个。

②☆比○少（ ）个。

2. 兔妈妈摘了 30 个蘑菇，兔宝宝比兔妈妈少摘 12 个，兔宝宝摘了多少个？

3. 兔宝宝摘了 18 个蘑菇，兔妈妈摘了 30 个，兔宝宝比兔妈妈少摘多少个？

答案：

4. 4 4

5. $30-12=18$ （个）

答：兔宝宝摘了 12 个。

6. $30-18=12$ （个）

答：兔宝宝比兔妈妈少摘 12 个。

1. $85 - 27 - 39$

2. $45 + 29 - 36$

3. 明明和玲玲比赛口算。明明一分钟算了 42 题，玲玲比明明多 3 题，玲玲一分钟口算多少题？

答案：

1. $85-27-39=19$

$$\begin{array}{r} 85 \\ -27 \\ \hline \end{array}$$

$$\begin{array}{r} 58 \\ -39 \\ \hline \end{array}$$

$$19$$

2. $45+29-36=38$

$$\begin{array}{r} 45 \\ +29 \\ \hline \end{array}$$

$$74$$


$$\begin{array}{r} 74 \\ -36 \\ \hline \end{array}$$

$$38$$

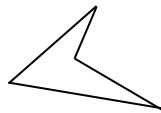
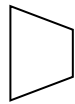
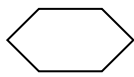
3. $42+3=45$ (题)

答：玲玲一分钟口算 45 题。

1. 在下面的钉子上画一个四边形和一个五边形。



2. 填一填。

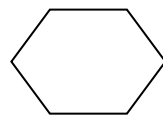
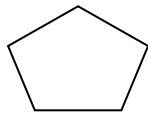


() 边形

() 边形

() 边形

3. 下面图形最少可以分成几个三角形



() 个三角形

() 个三角形

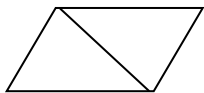
() 个三角形

答案:

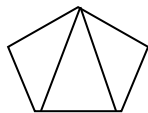
1. 图略

2. 六 四 四

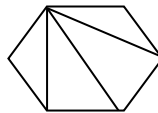
3.



2



3



4

1. 判断。

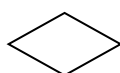

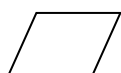
(1) 长方形、正方形、平行四边形都是四边形。 ()

(2) 把一个正方形剪去一个角，剩下的图形可能是四边形。

()

(3) 两个完全一样的三角尺一定能拼成一个平行四边形。 ()

2.




() 边形

() 边形

() 边形

3. 在一张长方形上剪一个角，剩下的是一个什么图形？你能找出几种情况？



() 形


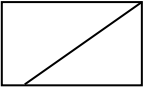
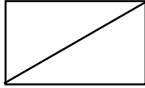
() 形

() 形

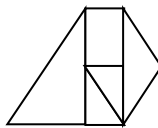
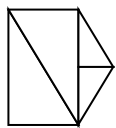
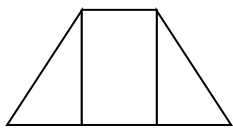
答案：

7. (1) \checkmark (2) \times (3) \checkmark

8. 平行四边 五 四

9.   
(五边) 形 (四边) 形 (三角) 形

1. 下面用七巧板拼成的是几边形？填一填。



() 边形

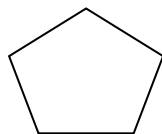
() 边形

() 边形

2. 在下面图形上画一条直线，按要求分成两个图形。




分成两个三角形



分成两个四边形

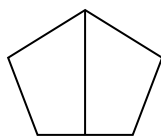
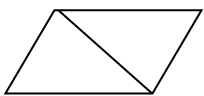
3. 过四点最多可以画几条直线？请你画一画。



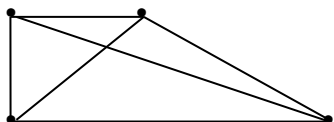
答案：

1. 四 五 五

2.

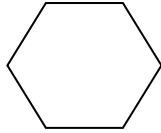


3. 6 条




1. 在七巧板中共有 () 个三角形, () 个四边形。

2. 在下面图形上画一条直线, 按要求分成两个图形:



分成一个三角形
和一个五边形



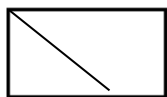
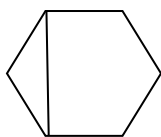
分成一个三角形
和一个四边形

3. 把一个正方形分成形状、大小相同的 4 份, 你可以有几种分法?
(一种分法画一个图)

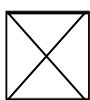
答案:

1. 5 2

2.




3.



答案不唯一

1. 看图列式计算。



加法算式：()或()

乘法算式：()或()

2. 判断

$4+4=4\times 2$ ()

$2+3+4+5+6=2\times 5$ ()

3×5 读作 3 乘 5 ()

$2+2=4\times 2$ ()

3. 读乘法算式，再说乘数和积各是多少。

$5\times 4=20$

$6\times 2=12$

$3\times 8=24$

答案：

1. $5+5=10$ $2+2+2+2=10$

$5 \times 2=10$ $2 \times 5=10$

2. \checkmark \times \checkmark \times

3. 5 乘 4 等于 20，乘数是 5 和 4，积是 20；

6 乘 2 等于 12，乘数是 6 和 2，积是 12；

3 乘 8 等于 24，乘数是 3 和 8，积是 24。

1. ☆☆☆ ☆☆☆ ☆☆☆ ☆☆☆

一共有 () 个 3。

加法算式: () + () + () + () = ()

乘法算式: () × () = ()

或 () × () = ()

2. 画○表示。

3 个 4:

2 个 5:

3. 把下面的加法算式改写成乘法算式:

$7+7+7+7+7+7+7 = (\quad \quad \quad)$

$4+4+4 = (\quad \quad \quad)$

$3+3+3+3 = (\quad \quad \quad)$

答案：

1. 4

$$3+3+3+3=12$$

$$3 \times 4 = 12 \text{ 或 } 4 \times 3 = 12$$

2. ○○○○ ○○○○ ○○○○

○○○○○ ○○○○○

3. 7×7

$$3 \times 4 \text{ 或 } 4 \times 3$$

$$3 \times 4 \text{ 或 } 4 \times 3$$

1. 补口诀说乘法算式

() 四十六 () () 得六 一 () 得四 三三
()

2. $3 \times 1 =$ $2 \times 3 =$ $4 \times 1 =$ $2 \times 2 =$

$1 \times 4 =$ $4 \times 3 =$ $2 \times 4 =$ $3 \times 3 =$

3. 在○里填上>、<或=。

$3 \times 2 \bigcirc 5$ $3 \times 3 \bigcirc 6$ $2 + 2 \bigcirc 4$ $4 \times 3 \bigcirc 8$

$4 \times 2 \bigcirc 12$ $4 \times 4 \bigcirc 8$ $1 \times 1 \bigcirc 2$ $3 \times 4 \bigcirc 16$

答案:

1. 四 二三 四 得九

2. 3 6 4 4

4 12 8 9

3. > > = >

< > < <

1. 先把乘法口诀补完整，再写出一道或两道乘法算式。

二（ ）得八 三四（ ） 三（ ）得九

2. 看算式，想口诀，写得数。

$3 \times 2 =$ $2 \times 2 =$ $4 \times 1 =$ $2 \times 4 =$ $3 \times 3 =$

$4 \times 1 =$ $1 \times 2 =$ $3 \times 3 =$ $1 \times 3 =$ $4 \times 4 =$

$2 \times 1 =$ $4 \times 2 =$ $3 \times 4 =$ $4 + 4 =$ $1 + 1 =$

3. 写出乘法算式，并算出得数。

(1) 3 乘 4 得多少？

(2) 2 个 4 相加得多少？

(3) 两个乘数都是 3，积是多少？

(4) 4 个 3 相加得多少？

答案：

1. 四 十二 三

$$2 \times 4 = 8 \quad 3 \times 4 = 12 \quad 3 \times 3 = 9$$

$$4 \times 2 = 8 \quad 4 \times 3 = 12$$

2. 6 4 4 8 9

$$4 \quad 2 \quad 9 \quad 3 \quad 16$$

$$2 \quad 8 \quad 12 \quad 8 \quad 2$$

3. (1) $3 \times 4 = 12$

(2) $2 \times 4 = 8$

(3) $3 \times 3 = 9$

(4) $4 \times 3 = 12$

1. 先把乘法口诀补完整，再写出一道或两道乘法算式。

二（ ）一十 三五（ ）

2. 看算式，想口诀，写得数。

$5 \times 4 =$ $3 \times 2 =$ $4 \times 5 =$ $2 \times 5 =$

$5 \times 1 =$ $1 \times 5 =$ $3 \times 5 =$ $5 \times 2 =$

$5 \times 5 =$ $4 \times 5 =$ $5 + 2 =$ $5 + 5 =$

3. 一共有多少个瓢虫？



答案：

1. 五 十五

$$2 \times 5 = 10 \quad 3 \times 5 = 15$$

$$5 \times 2 = 10 \quad 5 \times 3 = 15$$

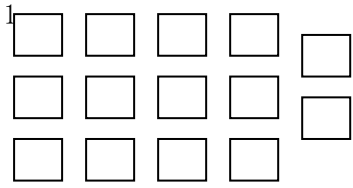
2. 20 6 20 10

$$5 \quad 5 \quad 15 \quad 10$$

$$25 \quad 20 \quad 7 \quad 10$$

3. $5+5=10$ 、 $5 \times 2=10$ 或 $2 \times 5=10$

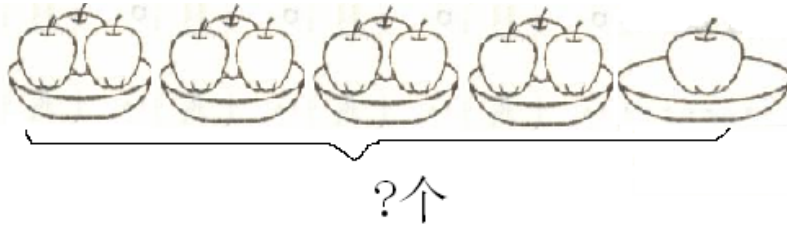
1. 看图列算式。



2. $3 \times 3 + 5 =$ $4 \times 4 + 9 =$ $2 \times 2 + 80 =$

$4 \times 5 - 5 =$ $4 \times 2 + 4 =$ $5 \times 5 - 10 =$

3. 苹果一共有几个？



答案：

1. $3 \times 4 + 2 = 14$

2. 14 25 84

15 12 15

3. $3 \times 4 + 1 = 13$

1. 补乘法口诀，写乘法算式。

①四()二十

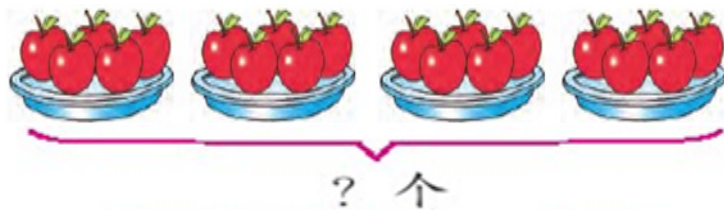
②二()一十

2. 在括号里填上合适的数。

() \times 2 = 6 () \times 3 = 3 () \times 5 = 20

() \times 2 < 8 () \times 4 < 9 2 \times 2 = () \times 1

3. 苹果一共有几个？



答案：

1. 五 $4 \times 5 = 20$ $5 \times 4 = 20$

 五 $2 \times 5 = 10$ $5 \times 2 = 10$

2. 3 1 4

 3 1 4

3. $4 \times 5 = 20$

1. 补乘法口诀，写乘法算式。

①四()二十四

②()六三十

2. 填表。

乘数	5	6		2	4	
乘数	4		3		6	5
积		18	12	10		30

3. $3 \times 6 =$ $4 \times 4 =$ $6 \times 5 =$ $3 \times 2 =$

$5 \times 5 =$ $6 \times 2 =$ $4 \times 5 =$ $6 \times 6 =$

答案：

1. 六 $4 \times 6 = 24$ $6 \times 4 = 24$

 五 $6 \times 5 = 30$ $5 \times 6 = 30$

2. 20 3 4 5 24 6

3. 18 16 30 6
 25 12 20 36

1. 把乘法口诀填写完整。

三 () 十二 () 六二十四

() 二十五 () 得八

四 () 十六 () 得四

二 () 十二 () 二十

2. 列式计算。

(1) 3个6相加,和是多少?

(2) 两个乘数都是5,积是多少?

3. 小军和他的4个好朋友每人买4块巧克力,他们一共买了多少块巧克力?

答案：

1. 四 四

五五 二四

四 一四 (或二二)

六 四五

2. (1) $3 \times 6 = 18$

(2) $5 \times 5 = 25$

3. $5 \times 4 = 20$

1. 按要求画一画，再写出算式。

(1) 每堆画 3 个○，画 4 堆。

加法算式是：_____

乘法算式是：_____ 或 _____

2. 想一想，□里最大可以填几。

$3 \times \square < 20$

$5 \times \square < 25$

$12 + \square < 30$

$4 \times \square < 21$

3.



做这两件衣服一共要用多少粒纽扣？

答案：

1. ○○○ ○○○ ○○○ ○○○

$$3+3+3+3=12$$

$$3 \times 4=12 \text{ 或 } 4 \times 3=12$$

2. 6 4


17 5

3. $3+5=8$

1. 判断下面每种分法是平均分吗？

(1)  ()

(2)  ()

(3)  ()


2. 把 12 根小棒平均分成 2 份，每份是 () 根。

把 12 根小棒平均分成 3 份，每份是 () 根。

把 12 根小棒平均分成 4 份，每份是 () 根。

3. 先圈一圈，再填空。



6 个 ，每 2 个一份，分成了 () 份。


答案：

4. (1) 不是

(2) 是

(3) 不是

5. 6 4 3

6. 
3

1. 用 20 根铅笔分一分，再填一填。

(1) 平均分成 4 份，每份 () 根。

(2) 平均分成 5 份，每份 () 根。

2. 把 6 个苹果，平均分 2 盘，每 () 个分一盘。

3. 把 10 个萝卜平均分在 5 个篮子里，每个篮子分到 () 个。

答案：

7. (1) 5

(2) 4

8. 3

9. 2

1. (1) 8 朵花，每个花瓶插 2 朵，插了 () 瓶。
(2) 8 朵花，插了 4 瓶，平均每个花瓶插 () 朵。
2. (1) 18 枚棋子，每个盘里放 3 颗，需要 () 个盘子。
(2) 18 枚棋子，放了 6 个盘子，平均每个盘里放 () 颗。



- (1) 每堆有 () 个三角形，() 堆一共有 () 个。
- (2) () 个三角形，每 () 个一堆，摆了 () 堆。
- (3) () 个三角形，平均分成 () 堆，每堆 () 个。

答案:

10. (1) 4

(2) 2

11. (1) 6

(2) 3

12. (1) 4 4 16

(2) 16 4 4

(3) 16 4 4

1. $24 \div 4 = ()$ 读作 (), 其中 24 是 (), 4 是 (), 商是 ()。

2. 圈一圈, 写一写。



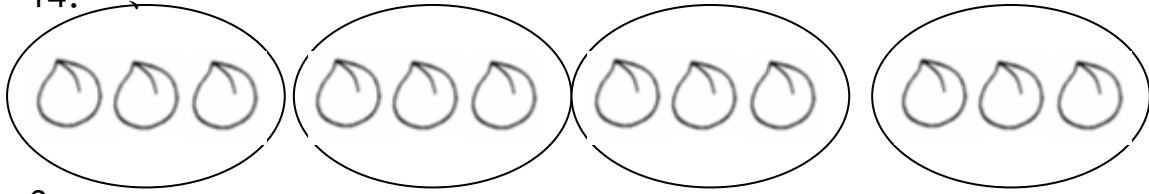
这些桃子平均分 4 份, 每份 () 个。

3. 把 24 支铅笔平均分成 4 份, 每份是多少? (先用小棒摆一摆, 再列算式)

答案：

13. 6 24 除以 4 等于 6 被除数 除数 6

14.



3

3. $24 \div 4 = 6$

1. 看图写算式。



$$(\quad) \div (\quad) = (\quad)$$

2.



(1) 15 棵向日葵，每个花盆种 3 棵，需要 () 个花盆。

$$(\quad) \div (\quad) = (\quad)$$

(2) 15 棵向日葵，平均种在 5 个花盆里，每个花盆种 () 棵。

$$(\quad) \div (\quad) = (\quad)$$

3.



$$(\quad) \times (\quad) = (\quad)$$

$$(\quad) \div (\quad) = (\quad)$$

$$(\quad) \div (\quad) = (\quad)$$

答案：

15. $12 \div 3 = 4$ 或 $12 \div 4 = 3$

16. (1) 5 $15 \div 3 = 5$

(2) 3 $15 \div 5 = 3$

17. $4 \times 5 = 20$ 或 $5 \times 4 = 20$

$20 \div 4 = 5$

$20 \div 5 = 4$

1. () \times 2 = 10

10 \div 2 = ()

口诀： _____

2. 直接写出得数。

8 \div 2 =

12 \div 3 =

16 \div 4 =

8 \div 4 =

12 \div 4 =

9 \div 3 =

3. 有 30 块巧克力，平均分给 6 个同学，每个同学可以分到几块？

答案：

18. 5 5 二五一十

19. 4 4 4

2 3 3

3. $30 \div 6 = 5$ (块)

答：每个同学可以分到 5 块。

1. () \times 6=30

30 \div 6= ()

口诀： _____

2. 直接写出得数。

4 \times 6=

3 \times 5=

24 \div 6=

15 \div 3=

24 \div 4=

15 \div 5=

3. 只列式，不计算。

(1) 比 24 多 6 是多少？

(2) 24 比 6 多多少？

(3) 24 里面有几个 6？

(4) 24 平均分 6 份，每份是多少？

答案：

20. 5 5 五六三十

21. 24 15

4 5

6 3

3. (1) $24+6$

(2) $24-6$

(3) $24\div 6$

(4) $24\div 6$

1. 直接写出得数。

$24 \div 6 =$

$10 \div 5 =$

$6 \div 3 =$

$12 \div 2 =$

$8 \div 4 =$

$25 \div 5 =$

2. 一本故事书有 36 页，6 天把这本书看完，平均每天看几页？

3. 6 个小朋友分 18 个桃子，平均每人分多少个？

答案：

$$22. \quad 4 \quad 2 \quad 2$$

$$6 \quad 2 \quad 5$$


$$2. \quad 36 \div 6 = 6 \text{ (页)}$$

答：平均每天看 6 页。

$$3. \quad 18 \div 6 = 3 \text{ (个)}$$

答：平均每人分 3 个。

1. 下面哪些是线段，是的打“√”，不是的打“×”。

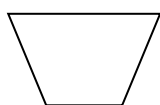


()

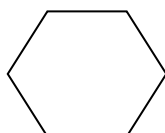
()

()

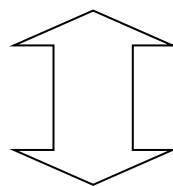
2. 每个图形各由几条线段围成，填在 () 里。



()




()



()

3. 下图中有 () 条线段。



答案:


23. × √ ×

24. 4 6 10

3. 6

1. 量比较短的物品，通常用()作单位。

2. 看图填一填。



() 厘米

() 厘米

3. 画一条比3厘米长2厘米的线段。

答案：

25. 厘米

26. 4 2

3. 图略

1. 量比较长的物品，通常用()作单位。

2. 1 米= () 厘米。

3. 在 () 填合适的长度单位。

(1) 铅笔长 8 ()。

(2) 床长 2 ()。

(3) 小明高 130 ()。

答案：


1. 米

2. 100

3. 厘米 米 厘米

1. 把毛线拉直，两手之间的一段可以看成()。

2. 看图填一填。



大约()厘米

3. 在()填合适的长度单位。

(1) 旗杆高 15 ()。

(2) 课桌高 80 ()。

(3) 一条裤子长约 1 ()。

答案：

1. 线段

2. 3

3. 米 厘米 米

1. 一拃、一步、一脚、一度，都是我们身体上的“（ ）”。
2. 食指的宽度大约（ ），我走（ ）步大约1米。
3. 量铅笔的长度，可以选择身体上的“尺”（ ）；
量黑板的长度，可以选择身体上的“尺”（ ）；
量教室的长度，可以选择身体上的“尺”（ ）。

答案：

1. 尺子

2. 1厘米 2

3. 一拃 一度 一步

1. 补口诀说乘法算式

() 七十四 () () 四十二 七七 ()

2. $7 \times 1 =$ $7 \times 3 =$ $4 \times 7 =$ $5 \times 7 =$

$1 \times 7 =$ $3 \times 7 =$ $7 \times 4 =$ $7 \times 7 =$

3. 在○里填上>、<或=。

$3 \times 7 \bigcirc 35$ $4 \times 7 \bigcirc 24$ $7 \times 7 \bigcirc 49$

$7 \times 2 \bigcirc 12$ $7 \times 6 \bigcirc 45$ $7 \times 1 \bigcirc 2 \times 4$

答案：

1. 二 六七 四十九

2. 7 21 28 35

7 21 28 49

3. < > =

> < <

1. 补口诀写除法算式

() 七二十一

() () 三十五

2. $14 \div 2 =$

$21 \div 7 =$

$28 \div 4 =$

$49 \div 7 =$

$35 \div 5 =$

$42 \div 7 =$

3. 二(2)班有42名同学,平均分成7个小组,每组有几人?

答案：

1. 三 五七

$$21 \div 3 = 7 \qquad 35 \div 5 = 7$$

$$21 \div 7 = 3 \qquad 35 \div 7 = 5$$

2. 7 3 7

7 7 6

3. $42 \div 7 = 6$ (人)

答：每组有 6 人。

1. $42 \div 7 =$ $4 \times 7 =$ $28 \div 7 =$ $49 \div 7 =$
 $14 \div 2 =$ $5 + 7 =$ $7 \div 7 =$ $21 + 3 =$

2. 一双筷子有 2 根，7 双筷子有多少根？

3. 2019 年 2 月有 28 天，2 月有几个星期？

答案：

$$\begin{array}{cccc} 1. & 6 & 28 & 4 & 7 \\ & 7 & 12 & 1 & 24 \end{array}$$

$$2. 2 \times 7 = 14 \text{ (根)}$$

答：7 双筷子有 14 根。

$$3. 28 \div 7 = 4 \text{ (个)}$$

答：2 月有 4 个星期。

1. 补口诀说乘法算式

() 八二十四

() () 六十四

五八 ()

2. $8 \times 1 =$ $8 \times 3 =$ $4 \times 8 =$ $5 \times 8 =$

$1 \times 8 =$ $8 \times 7 =$ $8 \times 6 =$ $8 \times 8 =$

3. 美术组在二年级 8 个班中挑选学生，每个班挑 6 名同学参加，美术组在二年级一共需要挑选多少名学生？

答案：

1. 三 八八 四十

2. 8 24 32 40

8 56 48 64

3. $8 \times 6 = 48$ (名)

答：美术组在二年级一共需要挑选 48 名学生。

1. 补口诀写除法算式

() 八十六

() () 五十六

2. $16 \div 2 =$

$32 \div 4 =$

$8 \div 4 =$

$24 \div 8 =$

$40 \div 5 =$

$64 \div 8 =$

3. 教室里有 48 张桌子，同学平均分成 6 个小组，每组有几张桌子？

答案：

1. 二 七八

$$16 \div 2 = 8 \quad 56 \div 8 = 7$$

$$16 \div 8 = 2 \quad 56 \div 7 = 8$$

2. 8 8 2

3 8 8

3. $48 \div 6 = 8$ (张)

答：每组有 8 张桌子。

1. 根据口诀写四道算式。

七八五十六

2. $48 \div 6 =$ $4 \times 8 =$ $24 \div 8 =$ $42 \div 7 =$

$16 \div 2 =$ $40 + 5 =$ $8 \div 8 =$ $24 + 3 =$

3. 绘画小组每组 8 人，8 组一共多少人？

答案：

1. $7 \times 8 = 56$ $56 \div 8 = 7$

$8 \times 7 = 56$ $56 \div 7 = 8$

2. 8 32 3 6

8 45 1 27

3. $8 \times 8 = 64$ (人)

答：8组一共64人。

2. 根据口诀写四道算式。

五九四十五

2. $54 \div 6 =$

$4 \times 9 =$

$27 \div 3 =$

$45 \div 9 =$

$18 \div 2 =$

$45 + 5 =$

$9 \div 3 =$

$27 \div 3 =$

3. 菊花有 36 朵，平均分给 9 个小朋友，每个小朋友分到几朵？

答案：

1. $5 \times 9 = 45$ $45 \div 9 = 5$

$9 \times 5 = 45$ $45 \div 5 = 9$

2. 9 36 9 5

9 50 3 9

3. $36 \div 9 = 4$ (朵)

答：每个小朋友分到 4 朵。

1. 6个9比5个9多()个9,比7个9少()。

2. 在○里填上>、<或=。

$3 \times 9 \bigcirc 36$

$4 \times 9 \bigcirc 24 + 5$

$9 \times 7 \bigcirc 7 \times 9$

$9 \times 2 \bigcirc 3 \times 6$

$49 \div 7 \bigcirc 45 \div 5$

$9 \times 1 \bigcirc 2 \times 4$

3. 9的乘法口诀有9句,小红背了6遍9的乘法口诀,她一共背了多少句乘法口诀?

答案：

1. $1 < 9$

2. $< > =$

$= < >$

3. $9 \times 6 = 54$ (句)

答：她一共背了 54 句乘法口诀。

1. 写出 4 道积是 12 的算式。

2. 写出 3 道一个乘数是 4 的算式。

3. 写出 3 道商是 5 的算式。

答案：

1. $3 \times 4 = 12$ $4 \times 3 = 12$

$2 \times 6 = 12$ $6 \times 2 = 12$

2. $4 \times 1 = 4$ $4 \times 2 = 8$

$4 \times 3 = 12$ $4 \times 4 = 16$ (答案不唯一)

3. $45 \div 9 = 5$ $40 \div 8 = 5$

$35 \div 7 = 5$ $30 \div 6 = 5$ (答案不唯一)

3. 28 里连续减 7, 可以减 () 次。

$2. 54 \div 6 \div 3 =$

$4 \times 9 \div 6 =$

$4 \times 3 \div 2 =$

$6 \times 6 \div 9 =$

$18 \div 2 \times 5 =$

$45 \div 5 \times 3 =$

$9 \div 3 \times 7 =$

$2 \times 3 \times 8 =$

3. 菊花有 36 朵, 平均分给 6 个小组, 每组分得几朵? 每组 2 个小朋友, 每个小朋友分到几朵?

答案：

1. 4

2. 3 6 6 4

45 27 21 48

3. $36 \div 6 = 6$ (朵)

答：每组分得 6 朵。

$6 \div 2 = 3$ (朵)

答：每个小朋友分到 3 朵。

1. $18 \div 3 \div 2 =$ $24 \div 6 \times 7 =$ $6 \times 6 \div 9 =$ $3 \times 3 \times 3 =$
 $7 \times 5 - 5 =$ $64 \div 8 + 4 =$ $2 \times 2 \times 6 =$ $6 \times 5 + 18 =$

2. 在()里填上合适的数。

() \div () = 6 () \times () = 6

4 \times () = 3 \times () 18 \div 2 = () \times ()

3. 小红和她的5个同学一共做了30个风车，平均每人做了几个？

答案：

1. 3 28 4 27

30 12 24 48

2. 6 1 (答案不唯一) 1 6 (答案不唯一)

3 4 (答案不唯一) 3 3 (答案不唯一)

3. $1+5=6$ (个)

$30\div 6=5$ (个)

答：平均每人做了 5 个。

1. 3个9相加是(), 比2个9多(), 比6个9少()。

2. 在○里填上“+、-、×或÷”。

$42 \bigcirc 7 = 6$

$12 \bigcirc 3 \bigcirc 3 = 7$

$2 \bigcirc 6 = 4 \bigcirc 2$

$8 \bigcirc 2 > 10$

3. 一本故事书85页, 已经看了40页。

(1) 还有多少页没有看?

(2) 如果以后每天看5页, 还要用几天看完?

答案：

1. $27 \quad 9 \quad 27$

2. $\div \quad \div + \quad + \times \quad -$


3. (1) $85-40=45$ (页)

答：还有 40 页没有看。

(2) $40 \div 5=8$ (天)

答：还要用 8 天看完。


1. 小方看到的茶壶的样子是哪一幅图？打“√”表示。



2. 下面各图分别是哪个小朋友看到的，用线连起来。



3. 下面各图分别是哪个小朋友看到的，用线连起来。




答案：



2.



3.



1. 下面各图分别是哪个小朋友看到的，用线连起来。



2. 下面各图分别是哪个小朋友看到的，用线连起来。



3. 下面各图分别是哪个小朋友看到的，用线连起来。



答案：

1.



2.

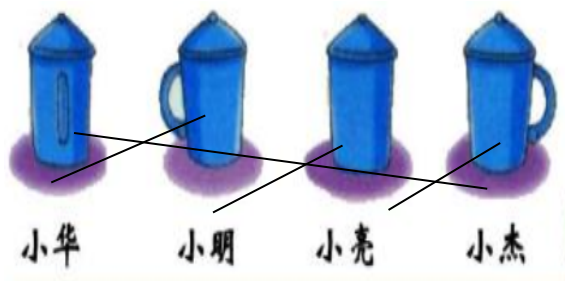


小芳

小强

小平

3.



小华

小明

小亮

小杰

1. 列竖式计算。

$69+23-57=$

$92-33-26=$

$48-29+37=$

2. 二（1）班栽杨树 39 棵，松树 25 棵。

（1）全班一共栽树多少棵？

（2）其中的 24 棵是男生栽的，女生栽树多少棵？

3. 二（2）班的小朋友做了 50 面黄旗，做的红旗比黄旗多 26 面，做的绿旗比红旗少 12 面。

（1）做了多少面红旗？

（2）做了多少面绿旗？

答案：

1. $69+23-57=35$

$$\begin{array}{r} 69 \\ + 23 \\ \hline 92 \\ - 57 \\ \hline 35 \end{array}$$

$92-33-26=33$

$$\begin{array}{r} 92 \\ - 33 \\ \hline 59 \\ - 26 \\ \hline 33 \end{array}$$

$48-29+37=56$

$$\begin{array}{r} 48 \\ - 29 \\ \hline 19 \\ + 37 \\ \hline 56 \end{array}$$

2. (1) $39+25=64$ (棵)

答：全班一共栽树 64 棵。

(2) $64-24=40$ (棵)

答：女生栽树 40 棵。


3. (1) $50+26=76$ (面)

答：做了 76 面红旗。

(2) $50-12=38$ (面)


答：做了 38 面绿旗。

1.



? 个


$$\square \bigcirc \square = \square$$



? 个

$$\square \bigcirc \square = \square$$

2.



? 个

$$\square \bigcirc \square \bigcirc \square = \square$$

3. 学校一共有 24 棵树苗，玲玲和她的 3 个同学给校园里的小树苗浇水，正好浇完，平均每人浇多少棵树？

答案：

1. $5 \times 2 = 10$ $5 + 4 = 9$

2. $4 \times 5 + 2 = 22$

3. $24 \div 4 = 6$ (棵)

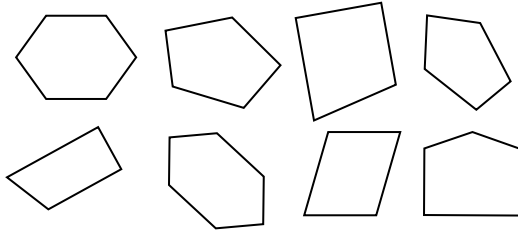
答：平均每人浇 6 棵树。

1. 比大小。

20 厘米 ○ 2 米 3 米 ○ 300 厘米

100 厘米 ○ 10 米 900 厘米 ○ 8 米

2.



四边形	() 个
五边形	() 个
六边形	() 个

3. 每把尺子 6 元，小明要买 4 把尺子，带 25 元够不够？

答案：

1. $< = < >$

2. $3 \quad 3 \quad 2$

3. $6 \times 4 = 24$ (元)

$24 < 25$

答：带 25 元够了。